

**ISPITNI KATALOG ZA EKSTERNU Maturu  
IZ IZBORNOG PODRUČJA POVIJEST – GEOGRAFIJA  
U ŠKOLSKOJ 2020./2021. GODINI**

## **POVIJEST - GEOGRAFIJA**

*Predmetno povjerenstvo za povijest*

Toni Poljak, prof. povijesti (KŠC Travnik )  
Dejan Garić, prof. povijesti (KŠC Sarajevo )  
Romeo Knežević, prof. povijesti (KŠC Tuzla )  
Sanela Tuckešić, prof. povijesti (KŠC Banja Luka )  
Ivana Pejinović, prof. povijesti (KŠC Žepče )  
Dragan Gavran, prof. povijesti (KŠC Zenica )

*Predmetno povjerenstvo za geografiju*

Vinko Martinović, prof. geografije (KŠC Travnik )  
Meri Radišić – Dedić, prof. geografije (KŠC Sarajevo )  
Sanda Bloudek, prof. geografije (KŠC Zenica )  
Siniša Markanović, prof. geografije (KŠC Žepče )

## SADRŽAJ

1. UVOD.....	4
1.1. OPĆI DIO MATURE.....	4
1.1.1. Eksterna matura.....	4
1.1.2. Povijest i Geografija na eksternoj maturi.....	4
1.1.3. Struktura ispita i način ocjenjivanja.....	4
1.1.4. Priprema za maturu.....	5
2. POVIJEST.....	6
2.1. UVOD.....	6
2.1.1. Uvod u sadržaj kataloga.....	6
2.1.2. Područja ispitivanja.....	6
2.1.3. Obrazovni ishodi – primjeri kroz sva četiri razreda škole.....	7
2.1.4. Primjeri zadataka s detaljnim pojašnjenjem.....	8
2.1.5. Upute za pismeni ispit.....	10
2.1.6. Upute za usmeni ispit.....	11
2.2. PITANJA ZA PRIPREMU.....	11
2.2.1. Test sa ključem odgovora.....	11
KLJUČEVI ODGOVORA.....	26
2.2.2. Kartična pitanja za usmeni ispit.....	28
3. GEOGRAFIJA.....	32
<u>3.1. UVOD.....</u>	<u>32</u>
3.1.1. Opće odredbe.....	32
3.1.2. Opći ciljevi ispita i ishodi znanja.....	32
3.1.3. Vrste zadataka.....	33
3.1.4. Upute za pismeni dio ispita.....	33
3.1.5. Upute za usmeni ispit.....	34
3.2. PITANJA ZA PRIPREMU.....	35
3.2.1. Test sa ključem odgovora.....	35
Ključ odgovora.....	56
3.2.2. Pitanja za usmeni dio ispita.....	66
PRIMJER TESTA.....	70

TEST IZ POVIJESTI .....	71
TEST IZ GEOGRAFIJE .....	75
LITERATURA.....	83

# **1. UVOD**

## **1.1. OPĆI DIO MATURE**

### **1.1.1. Eksterna matura**

Na temelju članka 79. Uredbe o odgoju i obrazovanju u Sustavu katoličkih škola za Europu učenici, nakon završenog četverogodišnjeg srednjoškolskog obrazovanja u gimnazijama Sustava polažu eksternu maturu.

Eksterna matura je jedinstveno standardizirano vrjednovani ispit. Standardizirano vrjednovanje je postupak pri kojemu učenici gimnazija Sustava polažu identične maturalne ispite u isto vrijeme, pod jednakim uvjetima.

Na maturi se provjeravaju i ocjenjuju dostignuta znanja i sposobnosti učenika stečena obrazovanjem prema važećem Nastavnom planu i programu Sustava.

S položenom maturom učenici gimnazija stječu srednju školsku spremu. U tom cilju napravljen je Katalog za polaganje ispita eksterne mature iz predmeta izbornog područja (Povijest i Geografija) koji obuhvaća najvažnije programske sadržaje iz navedenih predmeta što će poslužiti učenicima kao kvalitetna osnovica za nastavak daljnjeg obrazovanja.

Katalog zadataka za polaganje eksterne mature temeljni je dokument ispita.

### **1.1.2 Povijest i Geografija na eksternoj maturi**

Povijesti i Geografija su na ispitu izborni predmeti. Ispitni katalog iz ovog izbornog područja temeljni je dokument ispita kojim se jasno opisuje što će se i kako ispitivati na maturi iz ovih predmeta. Ispitni katalog sadržava sve potrebne informacije i detaljna objašnjenja o obliku i sadržaju ispita. Ispitni katalog usklađen je sa četverogodišnjim Nastavnim planom i programom za Povijest i Geografiju u gimnazijama Sustava.

### **1.1.3. Struktura ispita i način ocjenjivanja**

Ispit iz izbornih predmeta Povijest i Geografij sastoji se od dva ispita, gdje se svaki od njih ocjenjuje samostalno:

**USMENOŠI DIJELA ISPITA** – učenik bira nastavni predmet za polaganje

## **PISMENOG DIJELA ISPITA – jedinstveni test sastavljen od testa povijesti i testa geografije**

Na usmenom ispitu učenici odgovaraju pojedinačno pred tročlanim ispitnim povjerenstvom, nakon što izvuku jednu od više ponuđenih kartica. Na svakoj kartici nalaze se po tri pitanja iz različitih tematskih oblasti koje je učenik tijekom srednjoškolskog obrazovanja u Općoj gimnaziji izučio u nastavi iz ovih nastavnih predmeta.

Test ima jedinstvenu ocjenu koja se dobije aritmetičkom sredinom ocjena testa povijesti i testa geografije. Pozitivna ocjena mora biti iz oba dijela jedinstvenog testa, što je uvjet prolaznosti.

Ukupni zbroj bodova je 100. I jedan i drugi dio jedinstvenog testa imaju po 50 bodova. Ocjena svakog od pojedinačnih testova se određuje zbrojem bodova po sljedećoj skali vrijednosti:

manje od 55% = nedovoljan	( 0 – 27 ) b = nedovoljan
od 55 % - uključivo 70% = dovoljan	( 27.5 – 35 ) b = dovoljan
od 70,5 % - uključivo 80 % = dobar	(35,5 – 40 ) b = dobar
od 80,5 % - uključivo 90 % = vrlo dobar	( 40,5 – 45 ) b = vrlo dobar
od 90,5 % - uključivo 100 % = odličan	( 45,5 – 50 ) b = odličan

### ***1.1.4. Priprema za maturu***

Katalog sadrži pitanja za pripremu učenika, a odgovori na njih predstavljaju ishod rada sa učenicima kroz četiri gimnazijske godine i ispunjavaju ciljeve i zadatke ovih nastavnih predmeta. Katalog ima dvije skupine pitanja kod oba nastavna predmeta:

#### **KARTIČNA PITANJA ZA USMENI ISPIT**

#### **TEST SA KLJUČEM ODGOVORA**

Sva pitanja i odgovori su iz službenih nastavnih udžbenika korištenih u nastavnom procesu.

## **2. POVIJEST**

### **2.1. UVOD**

#### **2.1.1. Uvod u sadržaj kataloga**

Povijest je na maturi u Sustavu katoličkih škola za Europu izborni predmet. Ispitni katalog sadrži sve potrebne informacije i detaljna pojašnjenja o obliku i sadržaju ispita. Njime se jasno određuje što se od pristupnika očekuje na ispitu. Ispitni katalog usklađen je s odobrenim Nastavnim planom i programom za Povijest u općim gimnazijama Sustava. Ispitni katalog sadrži ova poglavlja:

**područja ispitivanja**

**obrazovni ishodi u primjerima**

**primjeri zadataka s detaljnim pojašnjenjem**

U prvome i drugome poglavlju čitatelj može naći odgovor na pitanje što se ispituje. U prvome su poglavlju navedena područja ispitivanja, odnosno ključna znanja i vještine iz Povijesti. U drugome je poglavlju, kroz konkretne opise onoga što pristupnik treba znati, razumjeti i moći učiniti, pojašnjen način na koji će se navedena znanja i vještine provjeravati.

#### **2.1.2. Područja ispitivanja**

Ispituju se sadržaji iz opće i nacionalne povijesti od pretpovijesti do suvremenoga doba podijeljeni u četiri područja ispitivanja:

Uvod u povijest, pretpovijest i stari vijek

Srednji vijek i novi vijek do početka XVIII. stoljeća

Novi vijek u XVIII. i XIX. stoljeću

Svijet XX. i XXI. stoljeća

Ispitom iz Povijesti provjerava se u kojoj je mjeri pristupnik ovladao različitim znanjima iz opće i nacionalne povijesti koja su navedena u ispitnome katalogu. Od pristupnika se očekuje:

poznavanje temeljne povijesne terminologije, događaja, pojava i procesa  
razumijevanje:

uzročno-posljedičnih veza (razlikovanje i klasificiranje uzroka i posljedica povijesnih događaja, pojava i procesa)  
slijeda povijesnih događaja, pojava i procesa  
povijesnih promjena i kontinuiteta  
povijesnih izvora kroz analizu ilustrativnih i tekstualnih materijala  
pri interpretaciji povijesnih zemljovida, kronoloških i statističkih tablica.

### ***2.1.3. Obrazovni ishodi – primjeri kroz sva četiri razreda škole***

**Primjer za I. razred:** *Visoke civilizacije i kulture staroga istoka.*

Pristupnik treba znati, odnosno moći:

- odrediti vremensko-prostorne odrednice opisati
- geografske karakteristike i gospodarstvo
- objasniti društveno-pravni sustav opisati
- državni razvoj i institucije vlasti
- odrediti i usporediti religije
- opisati dosege kulture, znanosti i umjetnosti
- opisati migracije i sukobe

**Primjer za II. razred:** *Razdoblje ranoga Srednjega vijeka (VII. – XII. st.) na području Hrvatske.* Pristupnik treba znati, odnosno moći:

- objasniti etnogenezu i proces pokrštavanja
- Hrvata objasniti razdoblje hrvatske kneževine
- objasniti razdoblje Hrvatskoga kraljevstva
- opisati bogatstvo i raznolikost hrvatske kulture ranoga srednjega vijeka

**Primjer za III. razred:** *Razdoblje druge polovice XIX. stoljeća na području Europe i svijeta.*

Pristupnik treba znati, odnosno moći:

- objasniti Drugu industrijsku revoluciju
- objasniti imperijalizam
- objasniti ideološko-društvene odnose imperijalizma

**Primjer za IV. razred:** *Razdoblje između dvaju svjetskih ratova u Europi i svijetu*

Pristupnik treba znati, odnosno moći:

objasniti svjetske društveno-političke prilike razdoblja od mirovne konferencije u Versaillesu do Velike gospodarske krize

objasniti svjetske društveno-političke prilike razdoblja od Velike gospodarske krize do početka Drugog svjetskog rata

opisati dosege kulture, znanosti, športa, umjetnosti te svakodnevicu.

#### ***2.1.4. Primjeri zadataka s detaljnim pojašnjenjem***

*Prvi primjer: Primjer zadatka višestrukoga izbora*

Zadatak višestrukoga izbora sastoji se od upute (u kojoj je opisan način rješavanja zadatka i koja je zajednička za sve zadatke toga tipa u nizu), osnove (u kojoj je postavljen zadatak) te četiriju ponuđenih odgovora od kojih je jedan točan. U sljedećem zadatku od više ponuđenih odgovora samo je jedan točan. Točan odgovor treba označiti znakom X na listu za odgovore.

*\*Koji je crkveni red, uz dominikance, nastao kao reakcija Crkve na širenje heretičkih pokreta?*

*benediktinci*

*franjevci*

*isusovci*

*kapucini*

TOČAN ODGOVOR: B

OBRAZOVNI ISHOD: objasniti ulogu Crkve i vjere u srednjem vijeku

BODOVANJE:

1 bod – točan odgovor

0 bodova – netočan odgovor, izostanak odgovora ili ako je obilježeno više odgovora

*Drugi primjer: Primjer zadatka kratkoga odgovora*

Zadatak kratkoga odgovora sastoji se od upute (u kojoj je opisan način rješavanja zadatka i koja je zajednička za sve zadatke tog tipa u nizu) i osnove (pitanja) u kojoj je zadano što pristupnik treba odgovoriti. U sljedećem zadatku odgovorite kratkim odgovorom (riječju, s



nekoliko riječi ili jednostavnom rečenicom). Odgovore upišite samo na predviđeno mjesto uz ispitno pitanje.

*\*Tko je najznačajniji hrvatski znanstvenik u 18. st.? (Navedite ime i prezime.)*

---

TOČAN ODGOVOR: Ruđer Bošković

OBRAZOVNI ISHOD: opisati dosege kulture i znanosti

BODOVANJE:

1 bod – točan odgovor

0 bodova – netočan odgovor ili izostanak odgovora

*Treći primjer: Primjer zadatka višestrukoga izbora (kronologije)*

Zadatak višestrukoga izbora (kronologije) sastoji se od upute (u kojoj je opisan način rješavanja zadatka i koja je zajednička za sve zadatke toga tipa u nizu) i osnove (pitanja) u kojoj je zadano što pristupnik treba odgovoriti. U sljedećem zadatku od više ponuđenih odgovora samo je jedan točan. Točan odgovor trebate označiti znakom X na listu za odgovore.

*Koji redoslijed događaja točno opisuje kronologiju Francuske revolucije?*

objavljena *Deklaracija o pravima čovjeka i građanina* - uvedena jakobinska diktatura  
- napad na Bastillu - uveden Direktorij

napad na Bastillu - objavljena *Deklaracija o pravima čovjeka i građanina* - uvedena jakobinska diktatura - uveden Direktorij

uvedena jakobinska diktatura - uveden Direktorij - napad na Bastillu - objavljena *Deklaracija o pravima čovjeka i građanina*

uveden Direktorij - napad na Bastillu - objavljena *Deklaracija o pravima čovjeka i građanina* - uvedena jakobinska diktatura

TOČAN ODGOVOR: B

OBRAZOVNI ISHOD: objasniti Francusku revoluciju

BODOVANJE:

1 bod – točan odgovor

0 bodova – netočan odgovor, izostanak odgovora ili ako je obilježeno više odgovora

### ***2.1.5. Upute za pismeni ispit***

Katalog pitanja i odgovora izbornog područja Povijesti se sastoji od 120 pitanja. Pitanja su izvedena iz nastavnog gradiva koje je učenik tijekom svoga četverogodišnjeg školovanja u općoj gimnaziji prošao iz nastavnog predmeta Povijesti. Test na maturi je sastavljen od ovih pitanja i odgovora, ali oni ne moraju biti u izvornom obliku, zato se traži od učenika da uči sa razumijevanjem.

Ispit traje 90 minuta.

Redoslijed rješavanja birate sami.

Dobro rasporedite vrijeme kako biste mogli riješiti sve zadatke. Kada riješite test, provjerite svoje odgovore. Ukupan broj bodova testa iz izbornog područja Povijesti je 50 bodova.

#### **Bodovanje jednog zadatka**

Ako jedan zadatak sadrži 4 dijela, onda se svaki točni dio boduje sa 0,50, a za cijeli točan odgovor izračunava se  $(4 \times 0,50) = 2$  boda.

Ako jedan zadatak sadrži 3 dijela, onda se svaki točni dio boduje sa 0,50, a za cijeli točan odgovor izračunava se  $(3 \times 0,50) = 1,5$  boda.

Ako jedan zadatak sadrži 2 dijela, onda se svaki točni dio boduje sa 0,50, a za cijeli točan odgovor izračunava se  $(2 \times 0,50) = 1$  boda.

Ako jedan zadatak sadrži 1 dio (navođenje točne godine, imena i prezimena), onda se vrednuje sa jednim bodom.

netočan,

zaokruženo više ponuđenih odgovora, a traži se jedan ili dva, nečitko i nejasno napisan.

lažno predstavljanje,

ometanje drugih učenika,

prepisivanje,

pisanje crvenom kemijskom,

upotreba mobilnih telefona i drugih elektronskih uređaja,

križanje odgovora i davanje drugog (u tom slučaju ispravka odgovora je uz pomoć ispitivača koji odgovor prekriži i potpiše se).

### ***2.1.6. Upute za usmeni ispit***

Na usmenom ispitu učenici odgovaraju pojedinačno pred tročlanim ispitnim povjerenstvom, nakon što izvuku jednu od više ponuđenih kartica. Na svakoj kartici se nalaze po tri pitanja iz različitih tematskih oblasti koje je učenik tijekom srednjoškolskog obrazovanja u Općoj gimnaziji izučio u nastavi iz nastavnog predmeta Povijesti.

Ako učenik, nakon što pročita pitanja s izvučene kartice, zaključi da nije dovoljno spreman za ta pitanja, može izvući drugu karticu, ali mu se tada snižava zaključna ocjena na usmenom ispitu.

Učenik prije odgovaranja pravi sebi koncept odgovora na izvučenu karticu, u učionici pred povjerenstvom, a potom pristupa odgovoru.

## ***2.2. PITANJA ZA PRIPREMU***

### ***2.2.1. Test sa ključem odgovora***

#### **razred**

Koga se u Europi smatra ocem povijesti:

Herodot

Tacit

Tukidid

Najstarije razdoblje povijesti čovječanstva nazivamo \_\_\_\_\_

Godina koja predstavlja početak rimske ere je \_\_\_\_\_

Koji je faraon dao sagraditi najveću piramidu?

Kefren

Keops

Mikerin

Mezopotamija je nastala između rijeka \_\_\_\_\_ i \_\_\_\_\_

Koji znanstvenici su dešifrirali klinovo pismo?

Grotefend i Rawlinson

Champollion i Rawlinson

Grotefend i Champollion

Koji je vladar poslije Saula došao na židovsko prijestolje?

Salomon

David

Abraham

Kome je Jahve dao Deset Božjih zapovjedi?

Mojsiju

Davidu

Abrahamu

O čemu svjedoči Behistunska stijena?

o pobjedama Darija nad pobunjenim narodima

o pobjedama Kira nad pobunjenim narodima

o pobjedama Kambiza nad pobunjenim narodima

Kako se zvao arheolog koji se bavio istraživanjima na Kreti?

Arthur Evans

Heinrich Schliemann

Champollion

Grobnice mikenskih kraljeva otkrio je:

Arthur Evans

Heinrich Schliemann

Champollion

Poput drugih gradova država i Atena je u početku bila kraljevstvo. Ubrzo se stvorila skupina članova plemenita roda i preuzela vlast. Oni se nazivaju:

patridi

eupatridi

demos

Kada su bile organizirane prve Olimpijske igre?

773. g. pr. Krista

770. g. pr. Krista

776. g. pr. Krista

Koliko je istovremeno bilo kraljeva u spartanskoj državi?

jedan

nijedan

dva

Tko se godine 560. godine pr. Krista proglasio tiraninom?

Drakont

Solon

Pizistrat

Za Drakontove zakone se govorilo da su bili:

pisani mudro

pisani krvlju

pisani korisno

Godine 509. pr. Krista na vlast je došao Klisten koji je spriječio obnovu tiranije uvođenjem:

timokracije

ostrakona

Sukob između Sparte i Atene 431.-404. pr. Krista poznat je pod imenom\_\_\_\_\_

Koji je grad godine 500. - 499. pr. Krista postao središtem Jonskog ustanka?

Milet

Efez

Sparta

Očekujući ponovni perzijski napad (490. - 480. pr. Krista) Atenjani se nisu mogli dogovoriti oko načina obrane. Tko je bio za gradnju mornarice, a tko za povećanje broja hoplita?

za gradnju mornarice Temistoklo, za povećanje broja hoplitaAristid

za gradnju mornarice Miltijad, za povećanje broja hoplitaArtaferno

za gradnju mornarice Aristid, za povećanje broja hoplitaTemistoklo

Vrhunac („zlatno doba Atene,“) Atena postiže u doba reformatora :

Perikla

Temistokla

Aristotela

Pravni odnosi u starom Rimu zacrtani su u:

Zakoniku 12 ploča

Zakoniku 10 ploča

Godine 327. pr. Krista Aleksandar Veliki je krenuo na \_\_\_\_\_

Ratovi između Rima i Kartage zovu se\_\_\_\_\_

Tradicionalni društveni poredak Rimljani su naslijedili još od vremena kraljeva,  
a temeljio se na podjeli društva na:

robove i proletere

optimata i populare

patricije i plebejce

Izabrani narodni predstavnici koji su trebali štititi političke i gospodarske  
interese plebejaca su:

trijumviri

pretori

tribuni

Koje godine Oktavijan postaje carem?

31.g.pr.Kr.

27.g. pr.Kr.

44.g.pr.Kr.

Dioklecijan je uspostavio novo političko poimanje vladanja \_\_\_\_\_

Politički sustav u kojem je vlast podijeljena između četvorice vladara po političkoj  
ljestvici u povijesti se naziva \_\_\_\_\_

U VI.st.pr. Kr. Spartanci su stvorili najveće političko udruženje u tadašnjoj  
Grčkoj poznato kao \_\_\_\_\_ savez.

## II. razred

Najpoznatiji vladar Franačke bio je \_\_\_\_\_ .

Mir između Bizantskog Carstva i Franačkog Carstva godine 812. potpisan je u:

Aachenu

Hamburgu

Parizu

Franačko Carstvo raspalo se \_\_\_\_\_ godine.

Feudalizam je

---

---

U feudalizmu seljaci se dijele na \_\_\_\_\_ i \_\_\_\_\_

Teorije o podrijetlu Hrvata su :

---

---

---

---

---

Papa Ivan X. godine 925. kraljevsku titulu upotrebljava za hrvatskog vladara

\_\_\_\_\_ .

Posljednji hrvatski vladar bio je \_\_\_\_\_ čijom pogibijom Hrvatska ulazi u \_\_\_\_\_ s Ugarskom.

Pokretač križarskih ratova bio je :

papa Klemens III.

papa Urban II.

papa Bonifacije

Nakon križarskih ratova s istoka u Europu, putem trgovinske razmjene dolazi ( T ili N)

- |  |   |   |
|--|---|---|
| a) kajsija, breskva i limun              | T | N |
| b) barut, kompas i dalekozor             | T | N |
| c) mirodije, luksuzni predmeti i tkanine | T | N |

Engleskog vladara Richarda Lavljeg Srca naslijedio je :

Ivan Bez Zemlje

Henrik II. Plantagenet

Filip II. August



Prvi pisani zakon u Engleskoj donesen je \_\_\_\_\_ g., a poznat je pod imenom

\_\_\_\_\_

Osmanski sultan \_\_\_\_\_ osvaja Carigrad godine \_\_\_\_\_

Jezgru osmanlijske vojske činili su :

vitezovi

mornari

janjičari

Na čelu Osmanskog Carstva nalazi se \_\_\_\_\_, koji vlada uz pomoć \_\_\_\_\_, koji predsjedava državnim vijećem koje se zove

\_\_\_\_\_ .

Vojno – feudalni sustav Osmanskog Carstva naziva se i:

timarski sustav

spahijski sustav

Prvo zauzimanje dijela Balkana od strane Osmanlija bilo je područje oko \_\_\_\_\_, godine \_\_\_\_\_ .

Osamostaljenje srednjovjekovne Bosne počinje s:

Banom Kulinom

Banom Stjepanom II. Kotromanićem

*Povelja Kulina bana* iz 1189.g.je (zaokružiti točan odgovor)

ugovor sklopljen s dubrovačkim trgovcima

ugovor sklopljen mletačkim trgovcima

ugovor sklopljen s njemačkim trgovcima

Prvi bosanski kralj bio je \_\_\_\_\_, koji je za kralja okrunjen \_\_\_\_\_ godine.

Pad Hercegovine pod osmanlijsku vlast dogodio se godine :

1482.g.

1463.g.

1521.g

Martin Luther utemeljitelj je Crkve koja se zove :

Latinska Crkva

Evangelistička crkva

## Kalvinistička crkva

Reformirani protestantizam u Francuskoj naziva se \_\_\_\_\_

Smrću engleske kraljice Elisabete I. izumire dinastija Tudor, koju 1603.g. mijenja dinastija :

Stuart

Plantagenet

Habsburg

*Deklaraciju o pravima* iz 1689.g. potpisao je engleski kralj \_\_\_\_\_

Bitka na Krbavskom polju dogodila se :

1483.g.

1493.g.

1501.g.

Osmanlije su 1565.g. vodile bitku za Siget, čiju je obranu predvodio

\_\_\_\_\_.

Bosanskohercegovačko stanovništvo se u osmanlijskom razdoblju dijelilo staleški

na \_\_\_\_\_, te vjerski na \_\_\_\_\_

Islamizacija je \_\_\_\_\_

\_\_\_\_\_

Povelja kojom je franjevcima omogućeno da ostanu uz narod i budu čuvari katoličke vjere na području Bosne za osmanlijske vladavine zove se \_\_\_\_\_, a izdata je godine 1463, od sultana \_\_\_\_\_.

### III. razred

*Duh zakona* napisao je \_\_\_\_\_ (ime i prezime) i u njemu predlaže podjelu vlasti na \_\_\_\_\_

Velika francuska revolucija počela je napadom na \_\_\_\_\_, godine \_\_\_\_\_ (točan datum)

Koje države su osnivači Sv. Alijanse? a) \_\_\_\_\_

\_\_\_\_\_  
\_\_\_\_\_

Sukobljene strane u Američkom ratu za neovisnost su:

Velika Britanija i sjevernoameričke kolonije

Francuska i sjevernoameričke kolonije

BiH u sastavu Osmanlijskog Carstva pokušala je ostvariti svoju autonomiju pod vodstvom \_\_\_\_\_, godine \_\_\_\_\_.

Građanski rat u Americi trajao od \_\_\_\_\_ god. do \_\_\_\_\_ godine.

Kako se nazivaju najpoznatija djela Ljudevita Gaja i Janka Draškovića ?

\_\_\_\_\_  
\_\_\_\_\_

Bosanskohercegovački ustanak počeo je potkraj lipnja \_\_\_\_\_ godine u selu \_\_\_\_\_ blizu mjesta \_\_\_\_\_, a završen je \_\_\_\_\_ god.

Združena francusko-pijemontska vojska nanijela je u dvije odlučujuće bitke poraz habsburškoj vojsci 1859.godine. Bile su to bitke kod \_\_\_\_\_ i \_\_\_\_\_.

Strelicama poveži pojmove

- |           |                  |
|-----------|------------------|
| a) Jug    | 1) Konfederacija |
| b) Sjever | 2) Unija         |

11. Parni stroj je epohalno otkriće koje je \_\_\_\_\_ (godina) konstruirao i usavršio \_\_\_\_\_ (ime i prezime).

Rusija je za vrijeme Petra I. Velikog administrativno podijeljena na \_\_\_\_\_ (točan broj i naziv)

U ratu sa Osmanlijskim carstvom, Petar Veliki je osvojio luku \_\_\_\_\_ na Crnom moru.

Rusija je vodila ratove za vrijeme Katarine II. s Osmanlijskim carstvom i oni su završeni mirom u \_\_\_\_\_ Bugarskoj godine \_\_\_\_\_.

Povod ratu između stanovništva kolonija na tlu Sjeverne Amerike i matice Velike Britanije je događaj poznat kao \_\_\_\_\_ i zbio se \_\_\_\_\_

Prvi predsjednik SAD bio je \_\_\_\_\_ . ( puno ime i prezime )

Pravo nasljedstva habsburškog prijestolja po ženskoj lozi naziva se \_\_\_\_\_.

Za vrijeme Josipa II. pripadnici svih vjera (Židovi i pravoslavni) postaju ravnopravni \_\_\_\_\_ (aktom) koji je donesen \_\_\_\_\_ godine.

Ustavotvorna skupština u Parizu 27. kolovoza 1789. donosi jedan od najznačajnijih dokumenata u povijesti čovječanstva koji se zove \_\_\_\_\_

Bečki kongres službeno je trajao od \_\_\_\_\_ god. do \_\_\_\_\_  
( točan datum ) (točan datum)

Za vrijeme bana Josipa Jelačića, Kraljevina Hrvatska i Slavonija administrativno je podijeljena na šest županija :

\_\_\_\_\_ 0,5

\_\_\_\_\_ 0,5

\_\_\_\_\_ 0,5

\_\_\_\_\_ 0,5

\_\_\_\_\_ 0,5

\_\_\_\_\_ 0,5

Prva faza ujedinjena Italije je završena i u gradu \_\_\_\_\_ (ime grada), \_\_\_\_\_ (godina) proglašena je Kraljevina Italija.

Prema odredbama Hrvatsko-ugarske nagodbe, Hrvatska je dobila potpunu autonomiju u sljedećim poslovima:

\_\_\_\_\_ 0,5

\_\_\_\_\_ 0,5

\_\_\_\_\_ 0,5

\_\_\_\_\_ 0,5

U vrijeme hrvatskog narodnog preporoda 1841. godine osnivaju se dvije političke stranke

1. \_\_\_\_\_ i 2. \_\_\_\_\_

Mirom u San Stefanu \_\_\_\_\_ (točan datum) stvorena je tzv.

\_\_\_\_\_.

Dana 14. travnja 1865. godine na kazališnoj predstavi u Washingtonu, glumac Booth, pristaša Juga izveo je atentat na predsjednika \_\_\_\_\_. (ime i prezime)

Zaokruži naziv kongresa kojim je završena Velika istočna kriza

Bečki kongres

Berlinski kongres

#### IV. razred

1. Antanta je savez država \_\_\_\_\_, \_\_\_\_\_, \_\_\_\_\_, a drugi naziv za savez je \_\_\_\_\_.

2. Političke stranke formiraju se u BiH nakon što Austro-Ugarska preuzima vlast nad našim prostorom. Hrvati su organizirani u dvije stranke: (4 x 0.5 )

a.) \_\_\_\_\_ čiji je predsjednik \_\_\_\_\_

b.) \_\_\_\_\_ čiji je predsjednik \_\_\_\_\_

3. Zaokruži točan odgovor :

a.) Prvi balkanski rat je započeo 1911. T N

b.) Aneksija je nasilno pripajanje određene države u sustav druge države T N

4. Strjelicom poveži važne povijesne događaje sa odgovarajućom godinom :

a.) Aneksija BiH od strane A-U 1.) 1915.

b.) Londonski ugovor 2.) 1945.

c.) Okončanje Drugog svjetskog rata 3.) 1914.

d.) Početak Prvog svjetskog rata 4.) 1908.

5. Što je neposredan povod Prvom svjetskom ratu? \_\_\_\_\_.

Između kojih država je započeo rat \_\_\_\_\_ i \_\_\_\_\_

Jugoslavenski odbor je organizacija čiji je cilj \_\_\_\_\_

\_\_\_\_\_, a nastaje u gradu \_\_\_\_\_, godine \_\_\_\_\_.

\_\_\_\_\_. Na čelu odbora bio je \_\_\_\_\_.

7. Raspadom Austro-Ugarske nastaju države : \_\_\_\_\_,

\_\_\_\_\_, \_\_\_\_\_,

\_\_\_\_\_.

8. Pored navedenih povijesnih događaja upiši godine :

a.) Šestosiječanjska diktatura kralja Aleksandra Karađorđevića \_\_\_\_\_

b.) Uspostava Banovine Hrvatske \_\_\_\_\_

9. Kronološki poredaj događaja (brojevima od 1 do 4):

a.) formiranje Kraljevine Srba, Hrvata i Slovenaca \_\_\_\_\_

b.) početak Drugog balkanskog rata \_\_\_\_\_

c.) formiranje Država Slovenaca, Hrvata i Srba \_\_\_\_\_

d.) početak Prvog svjetskog rata \_\_\_\_\_

Stjepan i Antun Radić osnovali su stranku \_\_\_\_\_. Stranka stupa u koaliciju godine 1927. sa \_\_\_\_\_ nastaje \_\_\_\_\_ koalicija. (puni nazivi stranaka)

Prema Vidovdanskom ustavu Kraljevine SHS je uređen kao \_\_\_\_\_, a ustav je ukinuo \_\_\_\_\_

Hrvatski političar na sjednici Narodnog vijeća SHS (u studenom 1918.) održao je svoj poznati govor: „... *Gospodo još nije prekasno. Ne srljajte kao guske u maglu!*“ Govor je održao hrvatski političar \_\_\_\_\_

13. Pored nepoznatih pojmova upiši njihovo značenje :

a.) regent \_\_\_\_\_

b.) oktroyirani ustav \_\_\_\_\_

c.) hegemonija \_\_\_\_\_

d.) separatizam \_\_\_\_\_

14. Zaokruži političare koji su bili predsjednici i zamjenici u Narodnom vijeću :

a.) Ante Trumbić b ) Antun Korošec c.) Svetozar Pribičević d) Ante Pavelić

Zašto je kralj Aleksandar uveo Šestosiječanjsku diktaturu i koje godine?

\_\_\_\_\_  
\_\_\_\_\_

Tko i kada vrši atentat na kralja Aleksandra Karađorđevića?

\_\_\_\_\_

17. Banovina Hrvatska je nastala spajanjem banovina \_\_\_\_\_ i \_\_\_\_\_, a njima je priključeno još osam kotara. Prema kojem principu su priključeni ti kotari? \_\_\_\_\_

18. Vođa nacističkog pokreta u Njemačkoj je \_\_\_\_\_ koji postaje njemački kancelar \_\_\_\_\_ god.

19. Prekriži političara koji ne pripada fašističkoj skupini :

a.) Adolf Hitler, b.) Benito Mussolini, c.) Winston Churchill, d.) Vidkun Quisling.

20. Zaokruži istinite tvrdnje:

a.) Ruski predsjednik J.V. Staljin uoči Drugog svjetskog rata sklapa savez sa Hitlerom T N

b.) Kvislinzi je naziv za izdajnike iz vlastitih redova po fašističkom vođi V. Quisling T N

21. Kraljevina Jugoslavija je naziv za Kraljevinu Srba, Hrvata i Slovenaca od \_\_\_\_\_ godine. Tko je donio odluku o promjeni naziva države? \_\_\_\_\_

NDH je uspostavljena tijekom Drugog svjetskog rata. Točan nadnevak proglašavanja je \_\_\_\_\_ na radiopostaji Zagreb, a proglas je objavio \_\_\_\_\_

23. Rimskim ugovorima izvršeno je razgraničenje između država \_\_\_\_\_ i \_\_\_\_\_, a potpisali su ih \_\_\_\_\_ i \_\_\_\_\_

Napiši imena visokih dužnosnika NDH koji su pokušali izvršiti njezino spašavanje \_\_\_\_\_ i \_\_\_\_\_

25. Mirovna organizacija nastala nakon Drugog svjetskog rata naziva se \_\_\_\_\_

Vojno-politički blokovi nastali nakon Drugog svjetskog rata (zaokruži ispravne odgovore):

a.) Sjeverno-atlantski pakt      b.) Antanta      c.) Trojni savez      d.) Varšavski pakt

27. Koji događaj je bio povod bezuvjetne kapitulacije Japana \_\_\_\_\_



Tko je izvršio smaknuće Hrvata koji su padom NDH potražili spas u bijegu prema Austriji? \_\_\_\_\_

Pokret koji je zahvatio Hrvatsku u razdoblju 1965.-1971. naziva se \_\_\_\_\_ . Nositelji reformnog pokreta unutar Saveza komunista Hrvatske bili su \_\_\_\_\_ i \_\_\_\_\_ .

Hrvatski sabor je proglasio novi ustav demokratske RH koji se zove i "Božićni ustav". Kojeg nadnevkva je izglasan? \_\_\_\_\_

Hrvatska je proglašena samostalnom i suverenom državom nakon referenduma na kojem se \_\_\_\_\_ % građana izjasnilo za navedenu opciju. Na temelju rezultata Hrvatski sabor proglasio je suverenu i samostalnu RH. Navedi točan nadnevak koji se danas obilježava kao Dan državnosti Republike Hrvatske. \_\_\_\_\_

32. Hrvatska je međunarodno priznata od strane petnaest država Europske zajednice :

- a.)15.I.1991.                      b.)10.I.1991.                      c.) 15.I.1992.

33. Što znači politika *detanta*:

- a.) politika sukoba                      b.) politika razdvajanja                      c.) politika popuštanja

## KLJUČEVI ODGOVORA

### I. razred

1. a)	11. b)	21. a)
2. prapovijest	12. b)	22. a)
3. 753.g.pr.Kr.	13. c)	23. Indiju
4. b)	14. c)	24. Punski ratovi
5. Eufrat i Tigris	15. c)	25. c)
6. a)	16. b)	26. c)
7. b)	17. b)	27. b)
8. a)	18. Peloponeski rat	28. Dominat
9. a)	19. a)	29. Tetrarhija
10. a)	20. a)	30. Peloponeski

### II. razred

1. Karlo Veliki	11. a)	21. a)
2. a)	12. 1215., Velika povelja sloboda.	22. b)
3. 843. godine.	13. Mehmed II. Osvajač, 1453.	23. kalvinizam.
4. Feudalizam je društvo zasnovano na međuovisnosti, pri čemu je sloj ratnika i vitezova; nadmoćan u odnosu prema seljačkom mnoštvu.	14. c)	24. a)
5. slobodne seljake i kmetove.	15. sultan, velikog vezira, Divan.	25. Vilim III. Oranski
6. Teorije o podrijetlu Hrvata su :	16. a)	26. b)
a) Euroslavenska ili slavenska	17. Galipolja, godine 1353.	27. Nikola Šubić- Zrinski.
b) gotska iranska ili perzijska bugarska ilirsko - tračka Tomislava Petar Svačić;	18. a)	28. Spahije i raju, muslimane i kršćane
personalnu uniju	19. a)	29. Islamizacija je obraćenje na islam kršćana i drugih vjernika
b)	20. Tvrtko I. Kotromanić, 1377. godine.	30. Ahd - nama, Mehmeda II. Osvajača
10. a) T b) N c) T		

### III. razred

<p>1. Montesquieu (Monteskje); zakonodavnu, sudsku, izvršnu</p> <p>2. Bastilju; 14.7.1789.</p> <p>3. Rusija; Habsburška Monarhija; Pruska</p> <p>4. a)</p> <p>5. Husein- kapetan Gradašćević, 1831.god.</p> <p>6. 1861.god – 1865.god.</p> <p>7. „Kratka osnova horvatskog-slavenskog pravopisanja“ i „Disertacija“</p> <p>8. 1879.god; Dračevo; Gabela; 1878.god.</p> <p>9. Mađevite (Magevite); Solferina</p> <p>10. a) Jug-1)Konfederacija b)Sjever- 2) Unija</p>	<p>11. 1769.god.; James Watt</p> <p>12. 8.gubernija</p> <p>13. Azov</p> <p>14. Kučuk – Kajnardžiju; 1774.god.</p> <p>15. <i>Bostonska čajanka</i>; 1773.god.</p> <p>16. George Washington</p> <p>17. Pragmatička sankcija</p> <p>18. <i>Edikt o vjerskoj toleranciji</i>; 1781.god.</p> <p>19. <i>Deklaracija o pravima čovjeka i građanina</i></p> <p>20. 1. studenog 1814.god. do 9.lipnja 1815.god.</p>	<p>21. riječka, križevačka, zagrebačka, varaždinska, požeška,osječka</p> <p>22. Torino; 1861. god</p> <p>23. sudstvo; školstvo, bogoslovlje, unutarnji poslovi</p> <p>24. Hrvatsko – ugarska stranka; Ilirska stranka</p> <p>25. 3. ožujka 1878.god.; Velika Bugarska</p> <p>26. Abraham Lincoln</p> <p>27. b)</p>
--	--	--

### IV. razred

<p>1. Velika Britanija, Francuska i Rusija; naziv je Srdačan savez</p> <p>2. a.) Hrvatska narodna zajednica, predsjednik Nikola Mandić b.) Hrvatska katolička udruga, predsjednik Josip Štadler</p> <p>3 a.)N b.)T</p> <p>4.a.) 4, b.) 1, c.)2, d.)3.</p> <p>5.atentat na austrougarskog prijestolonasljednikaFranza Ferdinanda ; između Srbije i Austro-Ugarske</p> <p>6. stvaranje zajedničke južnoslavenske države nakon rušenja Austro-Ugarske; u Parizu 1915., Ante Trumbić</p> <p>7. Austrija, Mađarska, Čehoslovačka i Država SHS</p> <p>8.a.) 1929. b.) 1939.</p> <p>9.b.) 1, c.) 3 , a.) 4 d.) 2</p>	<p>10. HPSS; Demokratskom strankom, Seljačko-demokratska koalicija</p> <p>11.centralistička,parlamentarna monarhija;Aleksandar Karađorđević</p> <p>12. Stjepan Radić</p> <p>13. a.) vršitelj kraljevske dužnosti b.) nametnuti ustav c.)prevlast jednog naroda ili jedne države nad drugom d.) pokret koji teži odvajanju, osamostaljenju</p> <p>14. b.), c.) d.)</p> <p>15. kralj Aleksandar je pokušao riješiti državnu krizu nakon atentata u Beogradskoj skupštini; 1929.</p> <p>16. Veličko Kerin pripadnik VMRO-a ; 1934.</p> <p>17. Savske i Primorske banovine; prema kriteriju natpolovične većine hrvatskog stanovništva u kotarima</p>	<p>18. Adolf Hitler; 1933.</p> <p>19.c.) Winston Churchill</p> <p>20.a.) T b.) T</p> <p>21. kralj Aleksandar Karađorđević</p> <p>22. 10. travnja 1941.; Slavko Kvaternik</p> <p>23.NDH i Italije; Pavelić i Mussolini</p> <p>24. Mladen Lorković i Ante Vokić</p> <p>25.Ujedinjeni narodi</p> <p>26. a.) i d.)</p> <p>27. bacanje atomskih bombi na Hirošimu i Nagasaki</p> <p>28. partizani po naredbi J.B.Tita</p> <p>29. „Hrvatsko proljeće“; Savka Dapčević-Kučar i Mika Tripalo</p> <p>30. 22. prosinca 1990</p> <p>31. 94% ; 25. lipnja 1991.</p> <p>32. c.)</p> <p>33. c.)</p>
---	---	---

## **2.2.2. Kartična pitanja za usmeni ispit**

### **razred**

**Osnove povijesti** (*Što je povijest?, podrijetlo riječi, podjela povijesti čovječanstva, računanje vremena, otac povijesti* )

**Stari Egipat** (*kulturna dostignuća – graditeljstvo, pisma , mumificiranje* )

**Mezopotamija** (*položaj i pojam, navesti države, klinovo pismo i znamenitosti Babilona* )

**Židovi u starom vijeku** – *lekcija iz knjige*

**Perzija** (*kralj Darije* )

**Kretsko – mikenska kultura**

**Sparta i Atena** (*društveno političke značajke – usporedba* )

**Grčko – perzijski ratovi** - *lekcija*

**Atenski reformatori** (*Drakont, Solon, Klisten, Periklo* )

**Peloponeski rat** - *lekcija*

**Aleksandar Veliki** (*osvajajući pohodi* )

**Borba rimskih staleža** (*pojmovi patriciji i plebejci, pojam plebejski tribun i njegova uloga , ostvarenje Zakonika 12 ploča te privatno i javno pravo* )

**Ratovi Rima sa Kartagom**

**Oktavijan August** (*prvi rimski car, uspostava principata, unutrašnja i vanjska politika* )

**Dioklecijan** (*dominat, reforme, podjela vlasti, progon kršćana* )

### **razred**

**Karlo Veliki** (*stvaranje carstva, podjela carstva, sukob sa papom, sporazum sa Bizantom* )

**Feudalizam** (*pojam, postanak riječi, auxilium i beneficij, podjela seljaštva, razdoblje postanka* )

**Laička investitura** (*pojam i uspostava, posljedice u crkvi, Dictuspapae, dvostruka investitura* )

**Etnogeneza i doseljenje Hrvata** (*teorije o podrijetlu, seoba Hrvata, pokrštavanje Hrvata* )

**Kralj Tomislav** (*uspon Hrvatske, krunidba, crkveni sabori* )

**Dinastičke promjene u Hrvatskoj i ulazak u personalnu**

**uniju Križarski ratovi** (*pojam, povod, uzrok, posljedice* )

**Engleska u XII. i XIII. st.** (*Henrik II. i nasljednici, uspostava ustavne vladavine* )

**Osmanlije** (*pojam, postanak države, prvo osvajanje Balkana, pad Carigrada,*

*organizacija vojske, Državna uprava i timarski sustav* )

**Uspon i vrhunac bosanske države** (*ban Kulin, Tvrtko I.* )

**Nestanak bosanskog kraljevstva** (*Stjepan Tomaš, Stjepan Tomašević, pad Hercegovine* )

**Reformacija i Katolička obnova** (*protestantizam, kalvinizam, anglikanizam, posljedice reformacije, protureformacija* )

**Pobjeda engleskog parlamentarizma** (*dinastije Tudor i Stuart, građanski rat i Oliver Kromvel, slavna revolucija i Deklaracija o pravima* )

**Slavne bitke hrvatske vojske sa Osmanlijama** (*Krbavsko polje, bitka za Siget, bitka za Sisak* )

**BiH-a u vrijeme turskog vladanja u XVI. i XVII. st.** (*Bosanski pašaluk, stanovništvo podjela, islamizacija – pojam i posljedica, odnos prema vjerskim zajednicama, Ahd – nama* )

**III razred**

**Apsolutizam** (*pojam, nastanak, obilježja države, oblici, prosvjetiteljstvo, gospodarske teorije* )

**Prva i Druga industrijska revolucija** (*pojam, otkrića i posljedice* )

**Rusija** (*Petar I. Veliki i Katarina* )

**Postanak SAD-a - lekcija**

**Marija Terezija i Josip II u Hrvatskoj** (*reforme u Hrvatskoj* )

**Ugarsko posezanje za Hrvatskom** (*Ugarski sabor 1708.g., Hrvatska pragmatička sankcija 1712.g., Ugarski sabor 1714.g., Hrvatski sabor 1790.g., Ugarski sabor 1790. – 1791.g.* )

**Pokret kapetana Husein Gradašćevića**

**Francuska revolucija 1789.g.** (*uzrok, povod, početak, ideja revolucije, Deklaracije i posljedice- pojava liberalizma i nacionalnog pokreta kao ideja* )

**Bečki kongres i uspostava Svete alijanse**

**Velikosrpska ideologija** (*Načertanije, utjecaj na BiH-a ustanak 1875.g., ideologija nakon Berlinskog kongresa i što je sa ideologijom dolaskom Karađorđevića* )

**Hrvatski narodni preporod** (*Ljudevit Gaj i Janko Drašković, političko glasilo, prve političke stranke i pojmovi ilirizam i kroatizam* ).

**Ban Josip Jelačić** (*način izbora, Narodna zahtijevanja, odluke bana, prvi zastupnički hrvatski sabor, rat sa Mađarima* )

**Ujedinjenje Italije** – *lekcija iz knjige*

**Američki građanski rat** (*uzrok, povod, početak, tijek i kraj* )

**Hrvatsko – ugarska nagodba 1868.g.** (*pripreme za Nagodbu, odredbe nagodbe* )

**Veliki BiH-a ustanak 1875. – 1878.g.** (*povod, početak, tijek, mir u San Stefanu* )

#### **IV razred**

**BiH krajem XIX. i početkom XX. st.** (*BiH-a pod austrougarskom upravom, Kallay, formiranje političkih stranaka* )

**Formiranje vojno – političkih saveza i krize** (*Zašto, koji su i kako nastaju, koji su ciljevi?, aneksijska kriza i balkanski ratovi* )

**Prvi svjetski rat** (*povod i početak rata, Londonski ugovor, kapitulacija Srbije, ulazak SAD-a, kapitulacije i raspad Austro – Ugarske* )

**Južnoslavenska ideja za I. svjetskog rata** (*Jugoslavenski klub i odbor, deklaracije, Zagrebačka rezolucija i Narodno vijeće SHS, proglašenje Države SHS*)

**Ulazak Države SHS u Kraljevstvo SHS** - *lekcija*

**Pojava i pobjeda Fašizma u Italiji i Nacizma u Njemačkoj**

**Radićevo djelovanje u borbi hrvatskog naroda za jednakopravnost** (*osnivanje HPSS, govor u Hrvatskom saboru – strah , preimenovanje u HRSS i zašto, promjena političke taktike, koalicija i atentat* )

**Jugoslavija između dva rata** (*Vidovdanski ustav, proglašenje diktature, promjena naziva države i teritorijalna podjela, Oktroirani ustav i odredbe, ubojstvo kralja* )

**Banovina Hrvatska** (*Namjesništvo i hrvatsko pitanje, sporazum Cvetković – Maček, Banovina Hrvatska, raspoloženje Srba u Hrvatskoj prema Banovini* )

**Povod, početak i bitke prekretnice II. svjetskog rata** (*napomenuti i atomske bombe*)

**Slom TrećegReicha i sudbina tog teritorija** (*gdje su bili sporazumi o podjeli i kakvi su dogovori, sama kapitulacija – zbivanja 1945* )

**Nezavisna Država Hrvatska** - *lekcija*

**Pokušaj spašavanja NDH , pad NDH i Bleiburška tragedija**

**Svijet neposredno nakon II. svjetskog rata** (*UN, sudski procesi, vojni blokovi* )

**Hrvatski otpor od 1965. do 1971.g. - lekcija Politika Detanta**

**Nastanak samostalne Hrvatske** (*uvodenje višestranačja i demokratska vlast, novi ustav RH, proglašenje samostalne i suverene države, međunarodno priznanje* )

## **3.GEOGRAFIJA**

### **1. UVOD**

#### **3.1.1. Opće odredbe**

Na osnovi članka 79 Uredbe o odgoju i obrazovanju u Sustavu katoličkih škola za Europu učenici, nakon završene četverogodišnje Opće – realne gimnazije, polažu eksternu maturu. Eksternom maturom se provjeravaju znanja, sposobnosti i vještine stečene tijekom četverogodišnjeg obrazovanja.

U tom cilju napravljen je Katalog za polaganje ispita eksterne mature iz predmeta Geografija koji obuhvaća najvažnije programske sadržaje iz geografije što će poslužiti učenicima kao kvalitetna osnovica za nastavak daljnjeg školovanja.

Katalog zadataka za polaganje eksterne mature temeljni je dokument ispita u kojem su navedeni opći ciljevi ispita, struktura *testa* zasnovana na programskim odrednicama Nastavnog plana i programa četverogodišnje gimnazije, pravilima izrade testa, literaturi i zadacima označenim brojevima od 1 do 100, kao i označenim brojevima rješenja zadataka.

#### **3.1.2. Opći ciljevi ispita i ishodi znanja**

Ovim se ispitom želi provjeriti razina usvojenih znanja i stupanj sposobnosti koje su učenici razvili tijekom četverogodišnjeg srednjeg obrazovanja u skladu s ciljevima i zadacima za poučavanje Geografije prema Nastavnom planu i programu četverogodišnje opće – realne gimnazije. Poslije završenog četvrtog razreda gimnazije, učenici/učenice bi trebali/trebale:

Poznavati procese i pojave vezane za razvoj geografije kao znanosti, njezinom podjelom, orijentacijom i kartografijom te sadržajima fizičke geografije: geološka osnova i tektonika Zemlje, reljef, klima, vode, tla, biljni i životinjski svijet.

Poznavati procese i pojave vezane za čovjeka kao stanovnika Zemlje, naseljenost i gospodarske djelatnosti na Zemlji.

Poznavati procese i pojave vezane za globalizaciju i gospodarsko raslojavanje u svijetu te neujednačen gospodarski razvoj u svijetu.



Poznavati procese i pojave vezane za prirodno-geografske i društveno-geografske odlike Bosne i Hercegovine i Hrvatske.

### ***3.1.3. Vrste zadataka***

U testu su upotrijebljeni zadatci objektivnog tipa, a rješavaju se: davanjem odgovora na pitanje kojim se traži točno navođenje podataka; dvočlanim odabirom (DA/NE); višečlanim odabirom (tri, četiri ili više ponuđenih odgovora): prepoznavanjem točne tvrdnje zaokruživanjem točnog odgovora na osnovi ponuđenih rješenja.

### ***3.1.4. Upute za pismeni dio ispita***

Katalog pitanja i odgovora izbornog područja Geografija se sastoji od 100 pitanja. Pitanja su izvedena iz nastavnog gradiva koje je učenik tijekom svoga četverogodišnjeg školovanja u općoj gimnaziji prošao iz nastavnog predmeta Geografija.

Pismeni dio testa eksterne mature izbornog područja Geografija će se održati u isto vrijeme, pod jednakim uvjetima i na isti način za sve učenike koji pristupe eksternoj maturi i ispit traje 90 minuta.

Redoslijed rješavanja birate sami. Dobro rasporedite vrijeme kako biste mogli riješiti sve zadatke. Ispred svake skupine zadatka je uputa za njihovo rješenje. Pozorno je pročitajte. Kada riješite test, provjerite svoje odgovore.

Vrednovanje zadataka:

Ukupan broj bodova testa iz izbornog područja Geografija je 50 bodova.

Maksimalan broj bodova za svaki zadatak je 3 boda.

Zadatak se može sastojati od jednog, dva ili četiri dijela.

Svaki dio zadatka se boduje.

Bodovanje jednog zadatka koji sadrži više dijelova boduje se na sljedeći način:

Ako jedan zadatak sadrži 4 dijela, onda se svaki točni dio boduje sa 0,50, a za cijeli točan odgovor izračunava se  $(4 \times 0,50) = 2$  boda.

Ako jedan zadatak sadrži 3 dijela, onda se svaki točni dio boduje sa 0, 50, a za cijeli točan odgovor izračunava se 1,5 Boda ( 3 X 0,50 )

Ako jedan zadatak sadrži 2 dijela, onda se svaki točni dio boduje sa 0.50, a za cijeli točan odgovori izračunava se (2 x 0, 50) = 1 boda.

Ako jedan zadatak sadrži 1 dio, onda se točni odgovor boduje 1 ili 2 boda.

netočan,

zaokruženo više ponuđenih odgovora, a traži se jedan ili dva, nečitko i nejasno napisan.

lažno predstavljanje,

ometanje drugih učenika,

prepisivanje,

pisanje crvenom kemijskom,

upotreba mobilnih telefona i drugih elektronskih uređaja

### ***3.1.5. Upute za usmeni ispit***

Na usmenom ispitu učenici odgovaraju pojedinačno pred tročlanim ispitnim povjerenstvom, nakon što izvuku jednu od više ponuđenih kartica. Na svakoj kartici se nalazi po tri pitanja iz različitih tematskih oblasti koje je učenik tijekom srednjoškolskog obrazovanja u općoj gimnaziji izučio u nastavi iz nastavnog predmeta Geografija. Ako učenik, nakon što pročita pitanja s izvučene kartice, zaključi da nije dovoljno spreman, može izvući drugu karticu, ali mu se tada snizuje zaključna ocjena na usmenom ispitu.

## **3.2.PITANJA ZA PRIPREMU**

### **3.2.1. Test sa ključem odgovora**

**Zaokruži točan odgovor !**

**Astronomska jedinica je vrijednost srednje udaljenosti:** A. Mjeseca od Zemlje

B. Zemlje od Sunca

C. Mjeseca od Sunca

D. Sunca od središta galaktike

**1 bod**

**Zaokruži točan odgovor !**

**Granica između Zemljinoga plašta i kore je ploha:**

A. Gutenbergova diskontinuitet

B. Mohorovičićeva diskontinuitet

C. Krambergerova diskontinuitet

D. Wegenerova diskontinuitet

**1 bod**

**Zaokruži točan odgovor !**

**Koja skupina minerala prevladava u kemijskome sastavu litosfere?** A. silikati

B. karbonati

C. oksidi D.

hidroksidi

**1 bod**

**Zaokruži točan odgovor !**

**4. Za koliko se stupnjeva geografske dužine okrene Zemlja za 2 minute?**

4°

2°

0,5°

1,5

**1 bod**

**Zaokruži točne odgovore!**

**U kojim su toplinskim pojasevima tijekom godine najveće razlike u trajanju dana i noći?**

A. sjeverni umjereni

B. žarki

C. sjeverni hladni

D. južni umjereni

E. južni hladni .

**1 bod (2 x 0,50 )**

**Zaokruži točan odgovor !**

**U kojim slojevima atmosfere s porastom nadmorske visine opada temperatura?** A. troposferi i stratosferi

B. stratosferi i mezosferi

C. mezosferi i termosferi

D. troposferi i mezosferi

1 bod

**Zaokruži točan odgovor !**

**Kako se naziva postupak mijenjanja i nadopunjavanja sadržaja izvornih karata?**

- A. aerofotogrametrija
- B. generalizacija
- C. reambulacija
- D. orijentacija

bod

**Zaokruži točan odgovor!**

**Koji od navedenih procesa ima za posljedicu nastajanje dubokomorskih jaraka?**

- A. podvlačenje
- B. smicanje
- C. boranje
- D. razmicanje

1 bod

**Dopuni rečenicu !**

**9. Temperatura je \_\_\_\_\_ stanje atmosfere**

1 bod

**Zaokruži točan odgovor !**

**10. U kojemu je od navedenih mjeseci Zemlja najbliža Suncu?**

- A. u siječnju
- B. u travnju
- C. u srpnju
- D. u lipnju

1 bod

**Zaokruži točan odgovor!**

**11. Kalendar koji je u službenoj upotrebi od kraja 19. st. zove se *julijanski kalendar*. T**

N

1 bod

**Zaokruži točne odgovore !**

**12. Koje su među navedenima tople morske struje?**

- A. Bengvelska
- B. Humboldtova
- C. Kuro Shio
- D. Mozambička
- E. Zapadnoaustralska

1 bod (2 x 0,50)

**Zadatak riješi računajući i dopunjavanjem sljedeće rečenice!**

**Izračunajte srednju dnevnu temperaturu zraka ako je izmjerena temperatura u 7 sati 8 °C, u 14 sati 16 °C, a u 21 sat 10 °C.**

Srednja dnevna temperatura iznosi \_\_\_\_\_°C.

bod

**Zadatak riješi dopunjavanjem sljedeće rečenice!**

**Koliko iznosi udaljenost u prirodi između dvije točke ako je na geografskoj karti mjerila 1 : 200 000 prikazana s 10 cm?**

Udaljenost u prirodi iznosi \_\_\_\_\_km.

bod

**Zadatak riješi računajući i dopunjavanjem sljedećih rečenica!**

**Izračunaj koliko će biti sati po pojasnom vremenu na zadanim meridijanima kada je u Londonu podne.**

Na meridijanu 60° zapadno od početnog bit će \_\_\_\_\_ sati.  
Na meridijanu 120° zapadno od početnog bit će \_\_\_\_\_ sati.

**bod (2 x 0,50)**

**Upiši odgovarajuće slovo na praznu liniju ispred geografskog pojma.**

**Vrstama karata pridružite izolinije koje se na njima primjenjuju.**

- |                     |       |              |
|---------------------|-------|--------------|
| 1. seizmička karta  | _____ | A. izobare   |
| 2. sinoptička karta | _____ | B. izobate   |
| 3. pomorska karta   | _____ | C. izohipse  |
| 4. reljefna karta   | _____ | D. izokline  |
|                     |       | E. izoseiste |

**2 boda (4 X 0,50)**

**Upiši odgovarajuće slovo na praznu liniju ispred geografskog pojma.**

**Egzogenim procesima pridružite tipove reljefa za koje su karakteristični.**

- |                       |       |                     |
|-----------------------|-------|---------------------|
| 1. abrazija           | _____ | B. krški reljef     |
| 2. egzaracija         | _____ | C. obalni reljef    |
| 3. fluvijalna erozija | _____ | D. pustinski reljef |
| 4. korazija           | _____ | E. riječni reljef   |
| A. glacijalni reljef  |       |                     |

**2 boda (4 X 0,50)**

**Upiši odgovarajuće slovo na praznu liniju ispred geografskog pojma.**

**Procesima pridružite odgovarajuće opise.**

- |                    |       |  |
|--------------------|-------|--|
| 1. erozija         | _____ | A. dobivanje novih plodnih površina<br>odvodnjavanjem              |
| 2. dezertifikacija | _____ | B. ispiranje tla i povećanje udjela željeza i<br>aluminija         |
| 3. lateralizacija  | _____ | C. spiranje i razaranje tla, prirodno ili pod<br>utjecajem čovjeka |
| 4. salinizacija    | _____ | D. stvrdnjavanje, raspucavanje tla i širenje<br>pustinja           |
|                    |       | E. zaslanjivanje tla na navodnjavanjem<br>površinama               |

**2 boda (4 X 0,50)**

**Upiši odgovarajuće slovo na praznu liniju ispred geografskog pojma.**

**Načinima postanka pridružite vrste stijena.**

- |   |       |                                  |
|---|-------|----------------------------------|
| 1. hlađenje magme                         | _____ | A. mehaničke sedimentne stijene  |
| 2. lučenje iz zasićenih otopina           | _____ | B. dubinske magmatske stijene    |
| 3. taloženje ostataka organizama          | _____ | C. kemijske sedimentne stijene   |
| 4. promjena utjecajem tlaka i temperature | _____ | D. metamorfne stijene            |
|   |       | E. organogene sedimentne stijene |

**2 boda (4 X 0,50)**

**Upiši odgovarajuće slovo na praznu liniju ispred geografskog pojma.**

**Elementima karte pridružite pripadajuće pojmove .**

- |                         |       |                        |
|-------------------------|-------|------------------------|
| 1. geografski elementi  | _____ | A. oblik karte         |
| 2. matematički elementi | _____ | B. godina izdanja      |
| 3. ostali elementi      | _____ | C. mjerilo karte       |
| 4. redakcijski elementi | _____ | D. reljef              |
|                         |       | E. statistički podatci |

**2 boda (4 X 0,50)**

**Upiši odgovarajuće slovo na praznu liniju ispred geografskog pojma.**

**Tipovima klime pridružite poljoprivredne kulture koje su za njih karakteristične.**

- |                                |       |               |
|--------------------------------|-------|---------------|
| 1. savanska klima              | _____ | A. datulja    |
| 2. sredozemna klima            | _____ | B. ječam      |
| 3. suha pustinjska klima       | _____ | C. kaučukovac |
| 4. umjereno topla vlažna klima | _____ | D. kava       |
|                                |       | E. maslina    |

**2 boda (4 X 0,50 )**

**Upiši odgovarajuće slovo na praznu liniju ispred geografskog pojma.**

**Svemirskim tijelima pridružite odgovarajuće opise.**

- |              |       |  |
|--------------|-------|--|
| 1. asteroidi | _____ | A. komadići stijene ili prašine u Svemiru                |
| 2. kometi    | _____ | B. kamena tijela između Marsa i Jupitera                 |
| 3. meteori   | _____ | C. smrznuta voda, CO <sub>2</sub> , metan                |
| 4. meteoriti | _____ | D. mala kamena tijela koja padnu na Zemljinu površinu    |
|              |       | E. sitne čestice koje sagorijevaju u Zemljinoj atmosferi |

**2 boda (4 X 0,50 )**

**Upiši odgovarajuće slovo na praznu liniju ispred geografskog pojma.**

**Reljefnim oblicima pridružite odgovarajuće egzogene procese.**

- |             |       |                       |
|-------------|-------|-----------------------|
| 1. kamenica | _____ | A. abrazija           |
| 2. klif     | _____ | B. deflacija          |
| 3. U dolina | _____ | C. egzaracija         |
| 4. V dolina | _____ | D. fluvijalna erozija |
|             |       | E. korozija           |

**2 boda (4 X 0,50 )**

**Upiši odgovarajuće slovo na praznu liniju ispred geografskog pojma.**

**Rudama pridružite odgovarajuće skupine.**

- |             |       |                              |
|-------------|-------|------------------------------|
| 1. zlato    | _____ | A. rude obojene metalurgije  |
| 2. titan    | _____ | B. rude plemenitih metala    |
| 3. boksit   | _____ | C. rude rijetkih metala      |
| 4. magnetit | _____ | D. rude crne metalurgije     |
|             |       | E. rude organskoga porijekla |

**2 boda (4 X 0,50 )**

**Zaokruži točan odgovor !**

**Broj živorođenih na tisuću stanovnika je:**

- A. natalitet
- B. stopa nataliteta
- C. rodnost
- D. stopa prirodnoga priraštaja

**1 bod**

**Zaokruži točan odgovor !**

**26. Koje su migracije, prema uzroku, bile najintenzivnije u posljednja dva stoljeća? A. etničke**

- B. vjerske
- C. kulturne
- D. gospodarske

**1 bod**

**Za koje su zemlje karakteristične konurbacije?**

- A. za Belgiju i Nizozemsku
- B. za Englesku i Škotsku
- C. za Mađarsku i Austriju

**1 bod**

**Zaokruži točan odgovor !**

**Za što se danas prvenstveno rabi pomorski promet?** A. u turističke svrhe  
B. za brzo povezivanje udaljenih krajeva C. kao jeftin prijevoz velikih tonaža tereta

**1 bod**

**Zaokruži točan odgovor !**

**Koji kontinent ima najviše stope porasta broja stanovnika u posljednjih deset godina?**

- A. Afrika
- B. Azija
- C. Europa

**1 bod**

**Zaokruži točan odgovor !**

**Stari industrijski prostori nastali su nakon Prve industrijske revolucije uz ležišta:**

- A. ugljena
- B. nafte
- C. zemnoga plina
- D. željezne rude
- E. bakra

**bod (2 x 0,50 )**

**Upiši odgovarajuće slovo na praznu liniju ispred geografskog pojma.**

**Oblicima poljoprivredne proizvodnje pridružite pripadajuća obilježja.**

- 1. komercijalna plantažna \_\_\_\_\_
- 2. nomadsko stočarstvo \_\_\_\_\_
- 3. intenzivna autarkična poljoprivreda \_\_\_\_\_
- 4. transhumantno stočarstvo \_\_\_\_\_

- A. visoki prinosi na jedinici površine, proizvodnja uglavnom za vlastite potrebe
- B. uzgoj stoke u pokretu u suhim područjima
- C. kombinacija ljetne i zimske ispaše
- D. monokulturna proizvodnja u tropskome pojasu
- E. uzgoj stoke na velikim pašnjačkim površinama

**2 boda (4 X 0,50 )**

**Upiši odgovarajuće slovo na praznu liniju ispred geografskog pojma.**

**Rudama pridružite odgovarajuće skupine.**

- 1. zlato \_\_\_\_\_ A. rude obojene metalurgije
- 2. titan \_\_\_\_\_ B. rude plemenitih metala
- 3. boksit \_\_\_\_\_ C. rude rijetkih metala
- 4. magnetit \_\_\_\_\_ D. rude crne metalurgije
- E. rude organskoga porijekla

**2 boda (4 X 0,50 )**

**Upiši odgovarajuće slovo na praznu liniju ispred geografskog pojma.**

**Tipovima naselja pridružite odgovarajuća obilježja.**

- |                                  |       |                                 |
|----------------------------------|-------|---------------------------------|
| 1. novovjekovni grad             | _____ | A. agora                        |
| 2. antički rimski grad           | _____ | B. forum                        |
| 3. antički grčki grad            | _____ | C. obrtničko-trgovačka podgrađa |
| 4. srednjovjekovni europski grad | _____ | D. prvi parkovi                 |
|                                  |       | E. rušenje bedema               |

**2 boda (4 X 0,50 )**

**Upiši odgovarajuće slovo na praznu liniju ispred geografskog pojma.**

**Gradskim regijama pridružite odgovarajuće primjere.**

- |                 |       |                 |
|-----------------|-------|-----------------|
| 1. konurbacija  | _____ | B. BoWash       |
| 2. aglomeracija | _____ | C. Merseyside   |
| 3. megagrađ     | _____ | D. Split        |
| 4. megalopolis  | _____ | E. Metro Manila |
| A. Sao Paolo    |       |                 |

**2 boda (4 X 0,50 )**

**Zadatak riješi dopunjavanjem sljedeće rečenice!**

**35.** S obzirom na funkciju naselja, uz tercijarne i kvartarne djelatnosti, gradska naselja karakteriziraju \_\_\_\_\_ djelatnosti, a seoska prvenstveno \_\_\_\_\_ djelatnosti.

**1 bod**

**Upiši odgovarajuće slovo na praznu liniju ispred geografskog pojma.**

**Oblicima prometa pridružite odgovarajuća obilježja.**

- |                       |       |   |
|-----------------------|-------|---|
| 1. cestovni           | _____ | A. gigantizam u proizvodnji prometnih sredstava |
| 2. telekomunikacijski | _____ | B. najbrži oblik putničkoga prometa             |
| 3. zračni             | _____ | C. najučinkovitiji u prigradskome prometu       |
| 4. željeznički        | _____ | D. najmlađi oblik promet                        |
|                       |       | E. prijevoz od vrata do vrata                   |

**2 boda (4 X 0,50 )**

**Upiši odgovarajuće slovo na praznu liniju ispred geografskog pojma.**

**Državama pridružite značajna središta vjerskoga turizma.**

- |               |       |               |
|---------------|-------|---------------|
| 1. BiH        | _____ | A. Fatima     |
| 2. Francuska  | _____ | B. Loreto     |
| 3. Portugal   | _____ | C. Lourdes    |
| 4. Španjolska | _____ | D. Međugorje  |
|               |       | E. Montserrat |

**2 boda (4 X 0,50 )**

**Upiši odgovarajuće slovo na praznu liniju ispred geografskog pojma.**

**38.** Vrste prostornog kretanja stanovništva pridružite odgovarajući primjer

- |                         |       |  |
|-------------------------|-------|--|
| 1. konačna migracija    | _____ | A. dnevno putovanje radnika na radno mjesto                  |
| 2. privremena migracija | _____ | B. odlazak na godišnji odmor                                 |
| 3. redovita cirkulacija | _____ | C. odlazak na liječenje u Krapinske Toplice                  |
| 4. sezonska cirkulacija | _____ | D. preseljavanje stanovništva Bosne i Hercegovine u Njemačku |
|                         |       | E. preseljavanje stanovništva Republike Hrvatske u Gradišće  |

**2 boda (4 X 0,50 )**



**Zadatak riješi dopunjavanjem sljedeće rečenice!**

39. Demografska ekspanzija je \_\_\_\_\_ .

**1 bod**

**Upiši odgovarajuće slovo na praznu liniju ispred geografskog pojma.**

**40. Turističkim znamenitostima pridružite državu**

- |                       |       |               |
|-----------------------|-------|---------------|
| 1. Dolina kraljica    | _____ | A. Australija |
| 2. Partenom           | _____ | B. Brazil     |
| 3. Taj Mahal          | _____ | C. Egipat     |
| 4. Uluru Kata - Tjuta | _____ | D. Grčka      |
|                       |       | E. Indija     |

**2 boda (4 X 0,50 )**

**Upiši odgovarajuće slovo na praznu liniju ispred geografskog pojma.**

**41. Tipovima poljoprivredne proizvodnje pridružite pripadajuće opise**

- |  |       |                                     |
|--|-------|-------------------------------------|
| 1. ekstenzivno komercijalno stočarstvo | _____ | A. mesno govedarstvo na rančevima   |
| 2. intenzivna autarkična poljoprivreda | _____ | B. mliječno govedarstvo na farmama  |
| 3. intenzivno komercijalno stočarstvo  | _____ | C. uzgoj kakaovcau Obali Bjelokosti |
| komercijalna plantažna poljoprivreda   | _____ | D. uzgoj riže u Hindustanu          |
|  |       | E. uzgoj tulipana u Nizozemskoj     |

**2 boda (4 X 0,50 )**

**Zadatak riješi dopunjavanjem sljedeće rečenice!**

42. Urbani sustav kojim dominira jedno središte zove se \_\_\_\_\_ urbani sustav, za razliku od \_\_\_\_\_ urbanog sustava u kojem postoji veći broj podjednako važnih gradskih središta.

**1 bod (2 x 0,50 )**

**Zadatak riješi dopunjavanjem sljedeće rečenice!**

43. Ponuđeni pojmovi: *konurbacija, megagrad, trabant, megalopolis.*

Gradsku regiju kojom dominira jedno središte te ima više od 10 milijuna stanovnika zovmo \_\_\_\_\_, a gotovo kontinuirano izgrađenu urbanu zonu koja obuhvaća više velikih gradova s više od 25 milijuna stanovnika zovemo \_\_\_\_\_.

**1 bod (2 x 0,50 )**

**Zadatak riješi dopunjavanjem sljedeće rečenice!**

44. Povremeno naseljeni kopneni prostor Zemlje naziva se \_\_\_\_\_.

**1 bod**

**Zadatak riješi dopunjavanjem sljedeće rečenice!**

45. Grad s područjem koje mu funkcionalno gravitira čini \_\_\_\_\_ regiju.

**1 bod**

**Zadatak riješi dopunjavanjem sljedeće rečenice!**

46. Najzastupljenija žitarica u proizvodnji Monsunske Azije je \_\_\_\_\_.

**1 bod**

**Zadatak riješi dopunjavanjem sljedeće rečenice!**

47. Opća stopa fertiliteta pokazuje odnos broja \_\_\_\_\_ u jednoj godini i ukupnog broja \_\_\_\_\_ stanovništvo u fertilnoj dobi odnosno ostvarenu plodnost.

**1 bod (2 x 0,50 )**

**Zadatak riješi dopunjavanjem sljedeće rečenice!**

48. Ekspanzivna populacijska politika ima kao cilj \_\_\_\_\_ stanovništva ili održanje na postojećoj razini. Provode je gospodarski razvijene zemlje svijeta (npr. Švedska).

1 bod

**Zaokruži točan odgovor !**

**Koji od navedenih prostora ima najveću ukupnu površinu pod**

**šumom?** A. Južna Amerika

B. Ruska Federacija

C. Sjeverna i Srednja Amerika

D. Afrika

1 bod

**Zaokruži točan odgovor !**

**Genova je najveća talijanska luka s izlazom:**

A. na Egejsko more

B. na Jonsko more

C. na Ligursko more

D. na Tirensko more

1 bod

**Zaokruži točan odgovor !**

**51. U koju su se integraciju 1994. god. udružili SAD, Kanada i Meksiko?**

IMO

NAFTA

OPEC

WTO

1 bod

**Zaokruži točan odgovor !**

**Koji je grad političko središte Škotske?**

A. Glasgow

B. Newcastle

C. Edinburgh

D. Aberdeen

1 bod

**Zaokruži točan odgovor !**

**Koje su francuske regije bogate rudama u prošlosti bile predmet spora između Francuske i Njemačke?**

A. Akvitanija i Provansa

B. Alzace i Lorraine

C. Azurna obala i Vogezi

D. Provansa i Lorraine

1 bod

**Zaokruži točan odgovor !**

**Koja institucija donosi odluku o statusu kandidata i prijemu države-kandidatkinje u punopravno članstvo Europske unije?**

A. Europski parlament

B. Europsko vijeće

C. Vijeće Europe

D. Vijeće Europske unije

1 bod

**Zaokruži točan odgovor !**

**Koje su od navedenih države ušle u Europsku zajednicu 1973. godine?**

- A. Italija
- B. Španjolska
- C. Ujedinjeno Kraljevstvo
- D. Portugal
- E. Danska

bod ( 2 x 0,50 )

**Zaokruži točan odgovor !**

**Koje se od navedenih multinacionalnih kompanija bave proizvodnjom goriva i maziva?**

- A. ExxonMobil
- B. Royal DutchShell
- C. IBM
- D. Toyota motors
- E. Citigroup

bod ( 2 x 0,50 )

**Zaokruži točan odgovor !**

**Koja se među visokorazvijenim državama Europe izdvaja po najrazvijenijoj poljoprivredi ?**

- A. Francuska
- B. Švedska
- C. Njemačka
- D. Ujedinjeno Kraljevstvo

bod

**Zadatak riješi dopunjavanjem sljedeće rečenice!**

Dvije otočne sredozemne države članice Europske unije su \_\_\_\_\_ i \_\_\_\_\_.

1 bod

**Zaokruži točan odgovor !**

**Koja je rudama najbogatija regija Kanade ?**

- A. Apalači
- B. Kanadski štit
- C. Kordiljeri
- D. Središnja ravnica

1 bod

**Zaokruži točan odgovor !**

**Koja su dvije aglomeracije najveća demografska središta Indije ?**

- A. Bengaluru
- B. Chennai
- C. Delhi
- D. Mumbai

1 bod ( 2 x 0,50 )

**Zaokruži točan odgovor !**

**61. Na kojem se otoku nalazi većina industrijskog pojasa?**

43

Hokkaido  
Honshu  
Kyushu  
Shikoku

1 bod

**Upiši odgovarajuće slovo na praznu liniju ispred geografskog pojma.**

**Geografskim regijama SAD-a pridružite gospodarska središta.**

- |                  |       |              |
|------------------|-------|--------------|
| 1. Srednji zapad | _____ | A. Anchorage |
| 2. Zapad         | _____ | B. Boston    |
| 3. Jug           | _____ | C. Chicago   |
| 4. Sjeveroistok  | _____ | D. Denver    |
|                  |       | E. Atlanta   |

2 boda (4 X 0,50)

**Zadatak riješi dopunjavanjem sljedeće rečenice!**

**Kroz zadatak dopunjavanja pokaži koliko znaš o geografskom položaju i podrijetlu imena Bosne i Hercegovine**

Bosna i Hercegovina se prvi put spominje u \_\_\_\_\_ stoljeću.

Bosna je dobila ime po ilirskom obliku riječi *bassinus* što znači \_\_\_\_\_ .

Bosna i Hercegovina ima površinu od \_\_\_\_\_ km<sup>2</sup>.

Bosna i Hercegovina je smještena u \_\_\_\_\_ Europi.

2 boda (4 X 0,50)

**Zadatak riješi dopunjavanjem sljedeće rečenice!**

**Za točnu tvrdnju zaokruži slovo T (točno), a za netočnu tvrdnju zaokruži N (netočno).**

- A. Dinarske planine se u Bosni i Hercegovini pružaju u smjeru sjeverozapad-jugoistok. T N  
B. Najviša planina u Bosni i Hercegovini je Bjelašnica. T N  
C. Planine više od 2000 m su: Volujak, Čvrstica, Treskavica, Bjelašnica, Zelengora. T N  
D. Planine srednje visine u našoj zemlji su: Grmeč, Manjača, Čemernica, Vlašić, Igman. T N

2 boda (4 X 0,50)

**Zaokruži točne odgovore !**

**65. Ofiolitskom planinskom pojasu pripadaju planine:**

Vran, Čvrstica, Čemernica  
Treskavica, Zelengora, Maglić  
Vranica, Čvrstica, Komar  
Uzlanac, Borja, Ozren

1 bod

**Zaokruži točne odgovore !**

**Najveći broj sunčanih sati u Bosni i Hercegovini ima grad:**

- A. Ljubinje  
B. Trebinje  
C. Nevesinje  
D. Bileća

1 bod

**Zaokruži točne odgovore !**

**Najnižu količinu padalina u Bosni i Hercegovini ima:**

- A. Središnja Bosna

- B. Bosanska krajina
- C. Niska Hercegovina
- D. Semberija

1 bod

**Upiši odgovarajuće slovo na praznu liniju ispred geografskog pojma**

**Rijekama pridružite polja koja su nastala u donjim dijelovima njihovih tokova neposredno prije ulijevanja u Savu:**

- |                  |       |                   |
|------------------|-------|-------------------|
| 1. Drina i Sava  | _____ | A. Šamačko polje  |
| 2. Bosna i Sava  | _____ | B. Ivanjsko polje |
| 3. Vrbas i Sava  | _____ | C. Semberija      |
| 4. Ukrina i Sava | _____ | D. Lijeve polje   |

2 boda (4 X 0,50 )  
tako što ćeš broj

**Poveži geografski pojam (slovo) sa njegovim značenjem (broj), upisati na odgovarajuću liniju.**

- |                         |                                 |
|-------------------------|---------------------------------|
| a) _____ Manjača        | 1. kraško polje                 |
| b) _____ Glamočko polje | 2. planina                      |
| c) _____ Bijambare      | 3. naplavna (aluvijalna nizina) |
| d) _____ Šamačko polja  | 4. pećina                       |

2 boda (4 X 0,50 )

**70. Podvuci kraška polja Bosne i Hercegovine:**

- |            |                      |
|------------|----------------------|
| a) Lijeve  | b) Livanjsko         |
| c) Šamačko | d) Glamočko          |
| e) Popovo  | f) Nevesinjsko polje |

2 boda (4 X 0,50 )

**Poveži endemske vrste Bosne i Hercegovine (slovo) sa područjima koja naseljavaju (broj), tako što ćeš broj upisati na odgovarajuću liniju.**

- |                             |                            |
|-----------------------------|----------------------------|
| a) ___ planinska voluharica | 1. pećina Vjetrenica       |
| b) ___ čovječja ribica      | 2. Hutovo blato            |
| c) ___ riba jegulja         | 3. u Prokoškom jezeru      |
| d) ___ vodozemac triton     | 4. u planinskim područjima |

2 boda (4 X 0,50 )

**Dopuni rečenice!**

**Gdje se nalaze ušća bosanskohercegovačkih rijeka u Savu?**

- Ušće Drine u Savu je kod \_\_\_\_\_.
- Ušće Bosne u Savu je kod \_\_\_\_\_.
- Ušće Une u Savu je kod \_\_\_\_\_.
- Ušće Vrbasa u Savu je kod \_\_\_\_\_.

2 boda (4 X 0,50 )

**Upiši odgovarajuće slovo na praznu liniju ispred geografskog pojma**

**Navedenim gradovima pridruži rudu koja se vadi u njihovoj blizini:**

- |            |       |              |
|------------|-------|--------------|
| 1. limonit | _____ | A. Vareš     |
| 2. boksit  | _____ | B. Banovići  |
| 3. željezo | _____ | C. Prijedor  |
| 4. ugljen  | _____ | D. Vlasenica |

2 boda (4 X 0,50 )

Upiši odgovarajuće slovo na praznu liniju ispred geografskog pojma

Industrijskoj regiji pridruži baze zahvaljujući kojima je nastala:

- |                                   |       |   |
|-----------------------------------|-------|---|
| 1. Tuzlanska industrijska regija  | _____ | A. ugljen, željezo i poljoprivredna okolica                                 |
| 2. Banjalučka industrijska regija | _____ | B. boksit i hidroenergija   |
| 3. Sarajevska industrijska regija | _____ | C. ugljen i sol   |
| 4. Mostarska industrijska regija  | _____ | D. geografski položaj, kvalificirana radna snaga i bogata rudonosna okolica |

2 boda (4 X 0,50 )

Upiši odgovarajuće slovo na praznu liniju ispred geografskog pojma

75. Navedenim prometnim pravcima pridruži odgovarajuće prijevoje:

- |                   |       |                |
|-------------------|-------|----------------|
| Sarajevo - Tuzla  | _____ | Čemerno        |
| Sarajevo - Mostar | _____ | Ivan sedlo     |
| Travnik - Bugojno | _____ | Kupreška vrata |
| Bugojno - Kupres  | _____ | Karaula        |
| Foča- Bileća      | _____ | Komar          |

2,5 boda (5 X 0,50 )

Poveži rijeku (slovo) sa njenim mjestom nastanka ili izvorištem (broj) upisujući odgovarajući broj na praznu liniju.

- |                  |                           |
|------------------|---------------------------|
| a) _____ Vrbas   | 1. Šćepan polje           |
| b) _____ Bosna   | 2. Zec planina            |
| c) _____ Drina   | 3. podnožje planine Igman |
| d) _____ Neretva | 4. obronci Zelengore      |

2 boda (4 X 0,50 )

77. Dopuni rečenice:

Najvažniji centar vjerskog turizma u BiH je \_\_\_\_\_

Jedina riječna luka BiH na rijeci Savi je \_\_\_\_\_

Zračna luka Butmir nalazi se u \_\_\_\_\_

U Hercegovini, u kraškom polju, smještena je termoelektrana \_\_\_\_\_.

2 boda (4 X 0,50 )

78. Točnu tvrdnju zaokruži slovo T (točno), a za netočnu tvrdnju zaokruži N (netočno). Po popisu stanovništva iz 2013. godine, Bosna i Hercegovina je imala 3.531.159 stanovnika. T N

Od 1876. godine pa do 2013. BiH je imala najveću gustoću prema popisu iz 1991. godine i iznosila je 87 stan./km<sup>2</sup>. T N

c) Prvi popis stanovništva u BiH obavljen je 1878 godine. T N

d) Popis stanovništva izvršen je 1941. godine. T N

2 boda (4 X 0,50 )

Zaokruži točne odgovore !

Ukupna dužina granica Republike Hrvatske iznosi:

- A. 1028 km
- B. 2028 km
- C. 3028 km
- D. 4028 km

1 bod

Zaokruži točne odgovore !

**Najrasprostranjenija vrsta tla u peripanonskoj i panonskoj Hrvatskoj je:** A. podzol

- B. crvenica
- C. crnica
- D. treset

**1 bod**

**Zaokruži točne odgovore !**

**Koliko županija ima u Republici Hrvatskoj (bez grada Zagreba)?**

- A. 20
- B. 21
- C. 22
- D. 23

**1 bod**

**Zadatak riješi dopunjavanjem sljedeće rečenice!**

**82.** Prema reljefnim odlikama Republika Hrvatska se dijeli na: \_\_\_\_\_, \_\_\_\_\_ i \_\_\_\_\_.

**1 bod**

**Upiši odgovarajuće slovo na praznu liniju ispred geografskog pojma !**

**83.** Krajnjim točkama teritorija Republike Hrvatske pridružite županiju.

- |                              |                                      |
|------------------------------|--------------------------------------|
| 1. najistočnija točka _____  | A. Dubrovačko - neretvanska županija |
| 2. najjužnija točka _____    | B. Istarska županija                 |
| 3. najsjevernija točka _____ | C. Međimurska županija               |
| 4. najzapadnija točka _____  | D. Vukovarsko - srijemska županija   |

**2 boda (4 X 0,50)**

**84. Zaokruži točne odgovore !**

- |   |   |   |
|---|---|---|
| a) Najduža rijeka koja protječe kroz Hrvatsku je Drava.     | T | N |
| b) Vode Hrvatske pripadaju Jadranskom i Crnomorsko slijevu. | T | N |
| c) Najveće prirodno jezero u Hrvatskoj je Vransko jezero.   | T | N |
| d) Jadransko je more najsjeverniji zaljev Sredozemnog mora. | T | N |

**2 boda (4 X 0,50)**

**Upiši odgovarajuće slovo na praznu liniju ispred geografskog pojma !**

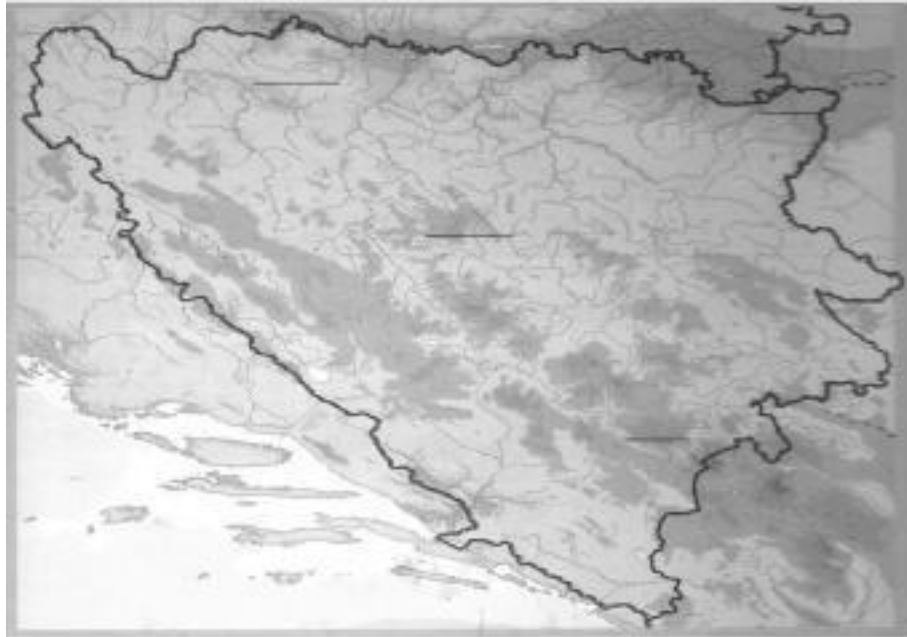
**Reljefnim oblicima pridružite odgovarajuće primjere**

- |                         |                  |
|-------------------------|------------------|
| 1. gora _____           | A. Biokovo       |
| 2. planina _____        | B. Bukovica      |
| 3. polje u kršu _____   | C. Gacko polje   |
| 4. zaravan u kršu _____ | D. Lonjsko polje |
|                         | E. Medvednica    |

**2 boda (4 X 0,50)**

Sljedeće pitanje riješi pomoću priložene karte Bosne i Hercegovine. Na prazne linije na karti upiši broj odgovarajućeg naziva planine i nizine:

Zelengora  
Semberija  
Kozara  
Vlašić



2 boda (4 X 0,50 )

Pažljivo pogledajte kartu sa riječnom mrežom Bosne i Hercegovine. Koje rijeke su označene brojevima?

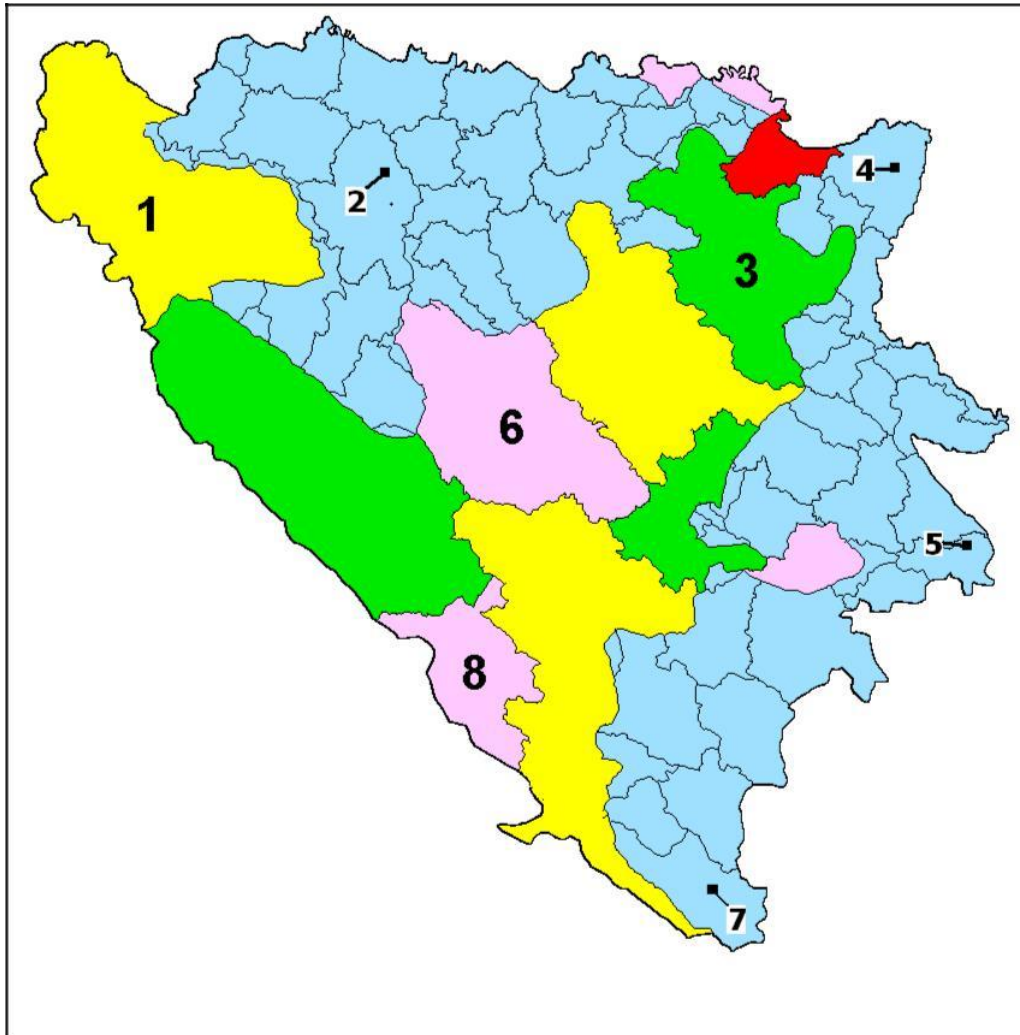
- 1 \_\_\_\_\_
- 2 \_\_\_\_\_
- 3 \_\_\_\_\_
- 4 \_\_\_\_\_



2 boda (4 X 0,50 )



Sljedeće pitanje riješi pomoću priložene karte Bosne i Hercegovine. Na crtama pored karte označenim brojevima 1,2,3 i 8 upiši imena kantona/županija u Federaciji Bosne i Hercegovine, a na crtama označenim brojevima 2,4,5 i 7 upiši imena gradova u Republici Srpskoj



**Županije u FBiH:**

**Gradovi u RS:**

1 \_\_\_\_\_

2 \_\_\_\_\_

3 \_\_\_\_\_

4 \_\_\_\_\_

6 \_\_\_\_\_

5 \_\_\_\_\_

8 \_\_\_\_\_

7 \_\_\_\_\_

**2 boda (4 X 0,50 )**

89. Sljedeće pitanje riješi uz pomoć priložene karte Bosne i Hercegovine.



U kružice na karti prema smještaju upiši slova za sljedeće

**HE (hidroelektrane).** A. HE Višegrad

B. HE Bočac

C. HE Slapovi na Uni

D. HE Jablanica

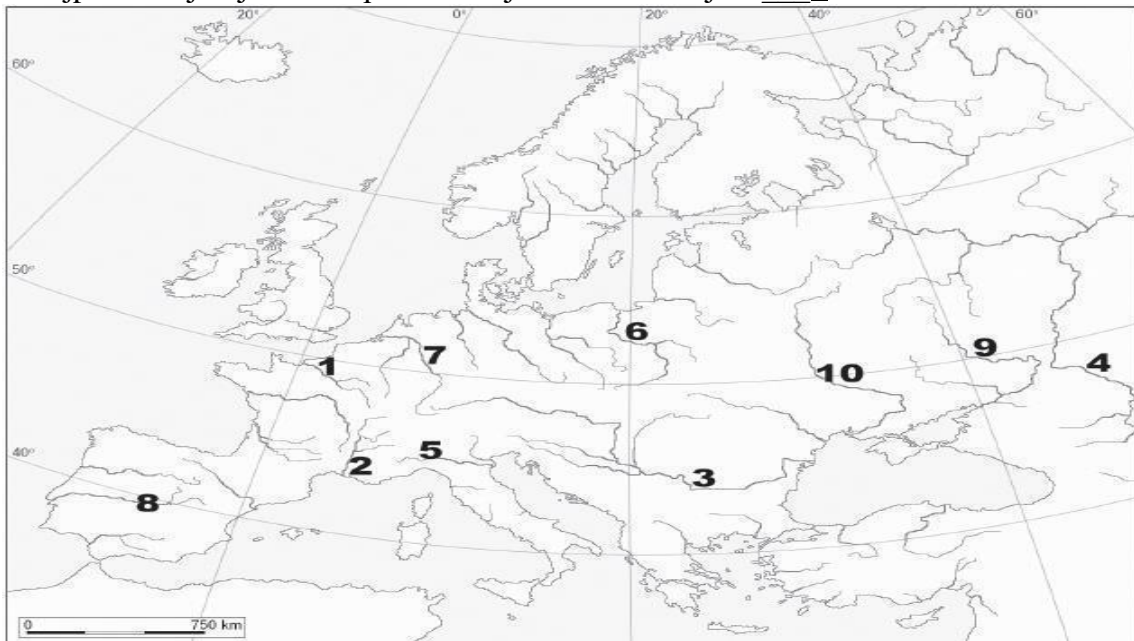
2 boda (4 X 0,50 )

Sljedeće pitanje riješi uz pomoć priložene karte Europe

Uz zadane opise upišite broj s geografske karte prikazane na

slici: a. Najdulja europska rijeka na karti je označena brojem \_\_\_\_\_.

b. Najprometnija rijeka Europe na karti je označena brojem \_\_\_\_\_.



1 bod (2 x 0,50 )

**Sljedeće pitanje riješi uz pomoć priložene karte !**

Na crte pored karte upišite imena pokrajina Ujedinjenoga Kraljevstva koje su na karti označene brojevima od 1 do 4.



1. \_\_\_\_\_

2. \_\_\_\_\_

3. \_\_\_\_\_

4. \_\_\_\_\_

**2 boda (4 X 0,50 )**

**Sljedeće pitanje riješi uz pomoć priložene karte**

Na crte ispod karte upišite imena kanadskih gradova koji su na karti označeni brojevima 1 i 2 te ime frankofonske kanadske provincije označene okomitim crtama.

Gradovi: 1. \_\_\_\_\_ 2. \_\_\_\_\_

Provincija: \_\_\_\_\_



**1,5 boda (3 X 0,50 )**

**93. Na priloženoj karti Italije:**

- A. crtama povežite gradove koji čine talijanski industrijski trokut
- B. zaokružite pomorsku luku koja nema vlastito nacionalno zaleđe
- C. uz kružić upišite ime najvažnijega središta na Siciliji



1,5 boda (3 X 0,50 )'

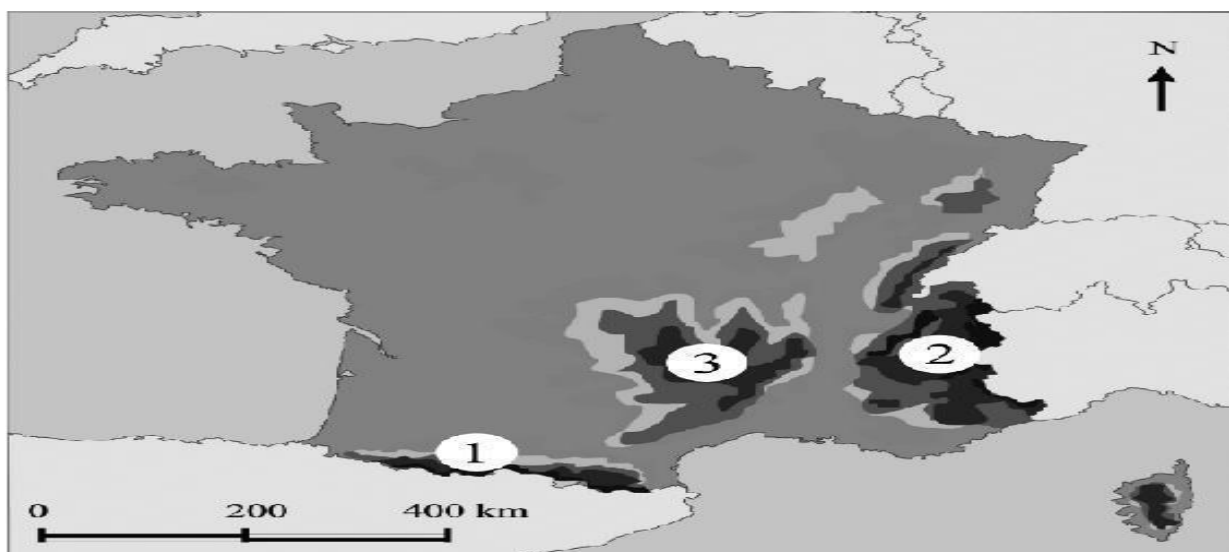
Sljedeće pitanje riješi uz pomoć priložene karte

Na crte upišite imena prirodnih cjelina Francuske koje su na karti označene brojevima 1, 2 i 3.

---

---

---



1,5 boda (3 X 0,50 )

**Sljedeće pitanje riješi uz pomoć priložene karte 95. Na priloženu slijepu kartu upišite:**

- A. broj 1 u državu u kojoj je sjedište Europskoga parlamenta
- B. broj 2 u državu u kojoj je potpisan ugovor o osnivanju Europske unije
- C. broj 3 u državu u kojoj je sjedište Europske komisije.



**1,5 boda (3 X 0,50 )**

**Sljedeće pitanje riješi uz pomoć priložene karte**

**Upišite ime nacionalnoga parka uz odgovarajući opis i broj s karte. a.**

- 1 – Najstariji nacionalni park u svijetu je \_\_\_\_\_ . b.
- 2 – Kanjon rijeke u Arizoni je \_\_\_\_\_ . c.
- 3 – Močvarni nacionalni park na Floridi je \_\_\_\_\_ .



**1,5 boda (3 X 0,50 )**

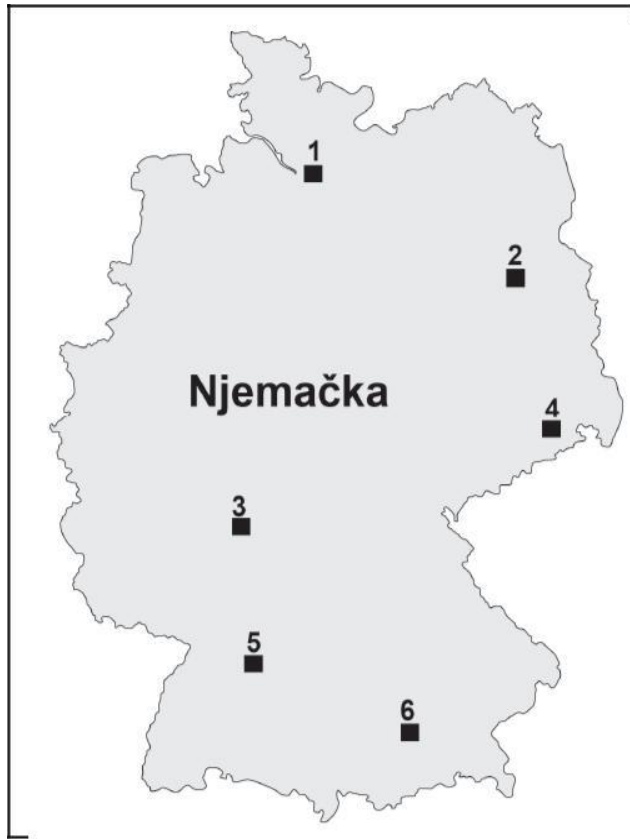
Sljedeće pitanje riješi uz pomoć priložene karte

Upišite brojeve kojima su na karti označeni gradovi Hamburg, München i Berlin.

Hamburg \_\_\_\_\_

München \_\_\_\_\_

Berlin \_\_\_\_\_



1,5 boda (3 X 0,50 )

Sljedeće pitanje riješi uz pomoć priložene karte

98. Upišite naziv klasične industrijske regije i ime države u kojoj se danas nalazi

regija

država

A \_\_\_\_\_  
B \_\_\_\_\_  
C \_\_\_\_\_



3 boda (6 X 0,50 )



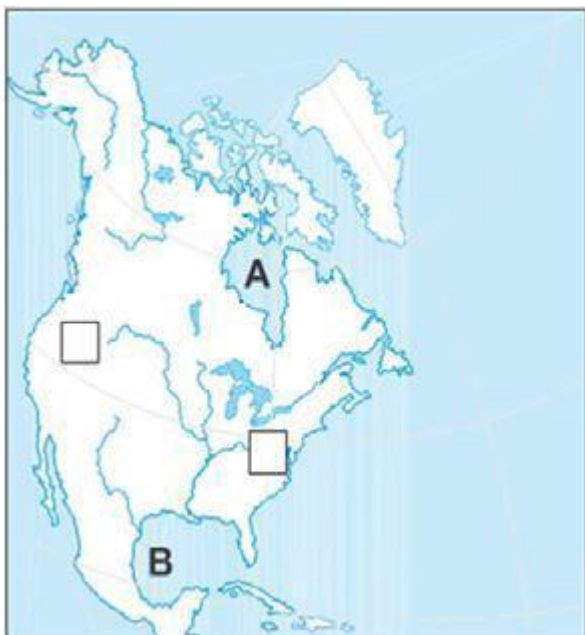
**99. Sljedeće pitanje riješi uz pomoć slijepe karte Europe.**

- a. Upišite broj 1 u državu u kojoj je potpisan ugovor o osnivanju Europske ekonomske zajednice.
- b. Upišite broj 2 u državu u kojoj je sjedište Europske središnje banke.
- c. Upišite broj 3 u državu u kojoj je potpisan ugovor koji je zamjena za neizglasan europski ustav.



**1,5 boda (3 X 0,50 )**

**Sljedeće pitanje dopuni pomoću priložene karte.**



Zaljev označen slovom A  
je \_\_\_\_\_

Zaljev označen slovom  
B je \_\_\_\_\_

U kvadratiće na karti upišite odgovarajući broj:

1– Kordiljeri 2 –Appalachian gorje (Apalači)

**2 boda (4 X 0,50 )**

## ***Ključ odgovora***

Astronomska jedinica je vrijednost srednje udaljenosti:

**B. Zemlje od Sunca**

Granica između Zemljinoga plašta i kore je ploha:

**B. Mohorovičićeva diskontinuitet**

3. Koja skupina minerala prevladava u kemijskome sastavu litosfere?

**silikati**

Za koliko se stupnjeva geografske dužine okrene Zemlja za 2 minute?

**0,5°**

5. U kojim su toplinskim pojasevima tijekom godine najveće razlike u trajanju dana i noći

**A. sjeverni umjereni**

**D. južni umjereni**

6. U kojim slojevima atmosfere s porastom nadmorske visine opada temperatura?

**D. troposferi i mezosferi**

7. Kako se naziva postupak mijenjanja i nadopunjavanja sadržaja izvornih karata?

**reambulacija**

8. Koji od navedenih procesa ima za posljedicu nastajanje dubokomorskih jaraka?

**podvlačenje**

9. Temperatura je toplinsko stanje atmosfere .

10. U kojemu je od navedenih mjeseci Zemlja najbliža Suncu?

**A. u siječnju**

Kalendar koji je u službenoj upotrebi od kraja 19. stoljeća zove se julijanski kalendar. N  
Koje su među navedenima tople morske struje?

**Kuro Shio**

**Mozambička**

13. Izračunajte srednju dnevnu temperaturu zraka ako je izmjerena temperatura u 7 sati 8 °C, u 14 sati 16 °C, a u 21 sat 10 °C.

**Srednja dnevna temperatura iznosi 11 °C.**

14. Koliko iznosi udaljenost u prirodi između dvije točke ako je na geografskoj karti mjerila 1: 200 000 prikazana s 10 cm?

**Udaljenost u prirodi iznosi 20 km.**

15. Izračunaj koliko će biti sati po pojasnom vremenu na zadanim meridijanima kada je u Londonu podne.

**Na meridijanu 60° zapadno od početnog bit će 8 sati.**

**Na meridijanu 120° zapadno od početnog bit će 4 sati.**

16. Vrstama karata pridružite izolinije koje se na njima primjenjuju.

seizmička karta E

sinoptička karta A

pomorska karta B

reljefna karta C

17. Egzogenim procesima pridružite tipove reljefa za koje su karakteristični.



abrazija C  
egzaracija A  
fluvijalna erozija E  
korazija D

18. Procesima pridružite odgovarajuće opise.

erozija C  
dezertifikacija D  
lateralizacija B  
salinizacija E

19. Načinima postanka pridružite vrste stijena.

hlađenje magme B  
lučenje iz zasićenih otopina C  
taloženje ostataka organizama E  
promjena utjecajem tlaka i temperature D

20. Elementima karte pridružite pripadajuće pojmove.

geografski elementi D  
matematički elementi C  
ostali elementi E  
redakcijski elementi B

21. Tipovima klime pridružite poljoprivredne kulture koje su za njih karakteristične.

1. savanska klima D  
2. sredozemna klima E  
3. suha pustinjska klima A  
4. umjereno topla vlažna klima B

22. Svemirskim tijelima pridružite odgovarajuće opise.

asteroidi B  
kometi C  
meteori E  
meteoriti D

23. Reljefnim oblicima pridružite odgovarajuće egzogene procese.

kamenica E  
klif A  
U dolina C  
V dolina D

24. Rudama pridružite odgovarajuće skupine.

zlato B  
titan C  
boksit A  
magnetit D

Broj živorođenih na tisuću stanovnika je:

**B. stopa nataliteta**

26. Koje su migracije, prema uzroku, bile najintenzivnije u posljednja dva stoljeća?

**gospodarske**

27. Za koje su zemlje karakteristične konurbacije?

**B. za Englesku i Škotsku**

28. Za što se danas prvenstveno rabi pomorski promet?

**C. kao jeftin prijevoz velikih tonaža tereta**

29. Koji kontinent ima najviše stope porasta broja stanovnika u posljednjih deset godina?

**Afrika**

Stari industrijski prostori nastali su nakon Prve industrijske revolucije uz ležišta:

**ugljena**

**D. željezne rude**

31. Oblicima poljoprivredne proizvodnje pridružite pripadajuća obilježja.

komercijalna plantažna  D

nomadsko stočarstvo  B

intenzivna autarkična poljoprivreda  A

transhumantno stočarstvo  C

32. Rudama pridružite odgovarajuće skupine.

zlato  B

titan  C

boksit  A

magnetit  D

33. Tipovima naselja pridružite odgovarajuća obilježja.

novovjekovni grad  D

antički rimski grad  B

antički grčki grad  A

srednjovjekovni europski grad  C

Gradskim regijama pridružite odgovarajuće primjere.

konurbacija  C

aglomeracija  D

megagrad  A

megalopolis  B

S obzirom na funkciju naselja, uz tercijarne i kvartarne djelatnosti, gradska naselja karakteriziraju  sekundarne  djelatnosti, a seoska prvenstveno  primarne  djelatnosti.

36. Oblicima prometa pridružite odgovarajuća obilježja.

cestovni  E

telekomunikacijski  D

zračni  B

željeznički  C

Državama pridružite značajna središta vjerskoga turizma.

BiH  D

Francuska  C

Portugal  A

Španjolska  E

38. Vrstama prostornog kretanja stanovništva pridružite odgovarajući primjer

1. konačna migracija             E
2. privremena migracija         D
3. redovita cirkulacija           A
4. sezonska cirkulacija         B

39. Demografska ekspanzija je naglo povećavanje ili udvostručenje broja stanovnika u vremenskom period od 50 godina.

40. Turističkim znamenitostima pridružite državu

1. Dolina kraljica             C
2. Partenom                     D
3. Taj Mahal                    E
4. Uluru Kata - Tjuta         A

41. Tipovima poljoprivredne proizvodnje pridružite pripadajuće opise

1. ekstenzivno komercijalno stočarstvo             A
2. intenzivna autarkična poljoprivreda             D
3. intenzivno komercijalno stočarstvo             B
4. komercijalna plantažna poljoprivreda         C

42. Urbani sustav kojim dominira jedno središte zove se monocentrični urbani sustav, za razliku od policentričnog urbanog sustava u kojem postoji veći broj podjednako važnih gradskih središta.

43. Ponuđeni pojmovi: *konurbacija, megagrad, trabant, megalopolis.*

Gradsku regiju kojom dominira jedno središte te ima više od 10 milijuna stanovnika zovemo megagrad, a gotovo kontinuirano izgrađenu urbanu zonu koja obuhvaća više velikih gradova s više od 25 milijuna stanovnika zovemo megalopolis.

44. Povremeno naseljeni kopneni prostor Zemlje naziva se subekumena.

45. Grad s područjem koje mu funkcionalno gravitira čini nodalnu (gradsku) regiju.

46. Najzastupljenija žitarica u proizvodnji Monsunske Azije je riža.

47. Opća stopa fertiliteta pokazuje odnos broja živorodenih u jednoj godini i ukupnog broja ženskog stanovništva u fertilnoj dobi, odnosno ostvarenu plodnost.

48. Ekspanzivna populacijska politika ima kao cilj povećanje stopa rasta stanovništva ili održanje na postojećoj razini. Provode je gospodarski razvijene zemlje svijeta (npr.

Švedska). 49. Koji od navedenih prostora ima najveću ukupnu površinu pod šumom?

B. Ruska Federacija

Genova je najveća talijanska luka s izlazom:

C. na Ligursko more

51. U koju su se integraciju 1994. god. udružili SAD, Kanada i Meksiko?

NAFTA

52. Koji je grad političko središte Škotske?

Edinburgh

53. Koje su francuske regije bogate rudama u prošlosti bile predmet spora između Francuske i Njemačke?

B. Alzace i Lorraine

54. Koja institucija donosi odluku o statusu kandidata i prijemu države-kandidatkinje u punopravno članstvo Europske unije?

**B. Europsko vijeće**

55. Koje su od navedenih države ušle u Europsku zajednicu 1973. godine?

**C. Ujedinjeno Kraljevstvo**

**Danska**

56. Koje se od navedenih multinacionalnih kompanija bave proizvodnjom goriva i maziva?

**ExxonMobil**

**Royal DutchShell**

57. Koja se među visokorazvijenim državama Europe izdvaja po najrazvijenijoj poljoprivredi ?

**A. Francuska**

58. Dvije otočne sredozemne države članice Europske unije su Malta i Cipar.

Koja je rudama najbogatija regija Kanade ?

**B. Kanadski štit**

60. Koja su dvije aglomeracije najveća demografska središta Indije ?

**Delhi**

**Mumbai**

61. Na kojem se otoku nalazi većina industrijskog pojasa?

**B. Honshu**

62. Geografskim regijama SAD-a pridružite gospodarska središta.

**Srednji zapad C**

**Zapad D**

**Jug E**

**Sjeveroistok B**

63. Kroz zadatak dopunjavanja pokaži koliko znaš o geografskom položaju i porijeklu imena Bosne i Hercegovine

Bosna i Hercegovina se prvi put spominje u X. stoljeću.

Bosna je dobila ime po ilirskom obliku riječi *bassinus* što znači **tekuća voda (tekućica)**

Bosna i Hercegovina ima površinu od 51 129 km<sup>2</sup>. Bosna i

Hercegovina je smještena u jugoistočnoj Europi.

64. Za točnu tvrdnju zaokruži slovo T (točno), a za netočnu tvrdnju zaokruži N (netočno).

a) Dinarske planine se u Bosni i Hercegovini pružaju u smjeru sjeverozapad-jugoistok. **T**

b) Najviša planina u Bosni i Hercegovini je Bjelašnica. **N**

c) Planine više od 2000 m su: Volujak, Čvrstica, Treskavica, Bjelašnica, Zelengora. **T**

d) Planine srednje visine u našoj zemlji su: Grmeč, Manjača, Čemernica, Vlašić, Igman. **T**

65. Ofiolitskom planinskom pojasu pripadaju planine:

**Uzlanac, Borja, Ozren**

66. Najveći broj sunčanih sati u Bosni i Hercegovini ima grad:

**A. Ljubinje**

67. Najnižu količinu padalina u Bosni i Hercegovini ima:

**D. Semberija**

68. Rijekama pridružite polja koja su nastala u donjim dijelovima njihovih tokova neposredno prije ulijevanja u Savu:

**Drina i Sava** C

**Bosna i Sava** A

**3.Vrba i Sava** D

**Ukrina i Sava** B

69. Poveži geografski pojam (slovo) sa njegovim značenjem (broj), tako što ćeš broj upisati na odgovarajući liniju.

- |                            |                                 |
|----------------------------|---------------------------------|
| a) <u>2</u> Manjača        | 1. kraško polje                 |
| b) <u>1</u> Glamočko polje | 2. planina                      |
| c) <u>4</u> Bijambare      | 3. naplavna (aluvijalna nizina) |
| d) <u>3</u> Šamačko polje  | 4. pećina                       |

70. Podvuci kraška polja Bosne i Hercegovine:

- |                         |                                    |
|-------------------------|------------------------------------|
| a) Lijevče              | <b><u>b) Livanjsko</u></b>         |
| Šamačko                 | <b><u>d) Glamočko</u></b>          |
| <b><u>e) Popovo</u></b> | <b><u>f) Nevesinjsko polje</u></b> |

71. Poveži endemske vrste Bosne i Hercegovine (slovo) sa područjima koja naseljavaju (broj), tako što ćeš broj upisati na odgovarajuću liniju.

- |                                  |                            |
|----------------------------------|----------------------------|
| a) <u>4</u> planinska voluharica | 1. pećina Vjetrenica       |
| b) <u>1</u> čovječja ribica      | 2. Hutovo blato            |
| c) <u>2</u> riba jegulja         | 3. u Prokoškom jezeru      |
| d) <u>3</u> vodozemac triton     | 4. u planinskim područjima |

72. Gdje se nalaze ušća bosanskohercegovačkih rijeka u Savu? Ušće Drine u Savu je kod **Rače**.

Ušće Bosne u Savu je kod **Bosanskog Šamca**.

Ušće Une u Savu je kod **Jasenovca**.

Ušće Vrbasa u Savu je kod **Srpca**.

73. Navedenim gradovima pridruži rudu koja se vadi u njihovoj blizini:

**limonit** C

**boksit** D

**željezo** A

**ugljen** B

Industrijskoj regiji pridruži baze zahvaljujući kojima je nastala:

**Tuzlanska industrijska regija** C

**Banjalučka industrijska regija** A

**Sarajevska industrijska regija** D

**Mostarska industrijska regija** B

75. Navedenim prometnim pravcima pridruži odgovarajuće prijevoje:

**Sarajevo - Tuzla** D

<b>Sarajevo</b>	-	<b>Mostar</b>	<u><b>B</b></u>
<b>Travnik</b>	-	<b>Bugojno</b>	<u><b>E</b></u>
<b>Bugojno</b>	-	<b>Kupres</b>	<u><b>C</b></u>
<b>Foča</b>	-	<b>Bileća</b>	<u><b>A</b></u>

76. Poveži rijeku (slovo) sa njenim mjestom nastanka ili izvorištem (broj) upisujući odgovarajući broj na praznu liniju.

- |                            |                           |
|----------------------------|---------------------------|
| a) <u><b>2</b></u> Vrbas   | 1. Šćepan polje           |
| b) <u><b>3</b></u> Bosna   | 2. Zec planina            |
| c) <u><b>1</b></u> Drina   | 3. podnožje planine Igman |
| d) <u><b>4</b></u> Neretva | 4. obronci Zelengore      |

77. Dopuni rečenice:

Najvažniji centar vjerskog turizma u BiH je **Medugorje**

Jedina riječna luka BiH na rijeci Savi je **Brčko**

Zračna luka Butmir nalazi se u **Sarajevo**

U Hercegovini, u kraškom polju, smještena je termoelektrana **Gacko**.

78. Točnu tvrdnju zaokruži slovo T (točno), a za netočnu tvrdnju zaokruži N (netočno).

a) Po popisu stanovništva iz 2013. godine, Bosna i Hercegovina je imala 3.531.159 stanovnika. **T**

Od 1876. godine pa do 2013. BiH je imala najveću gustoću prema popisu iz 1991. godine i iznosila je 87 stan./ km<sup>2</sup>. **T**

Prvi popis stanovništva u BiH obavljen je 1878 godine.

**N**  
Popis stanovništva izvršen je 1941. godine.

79. Ukupna dužina granica Republike Hrvatske iznosi:

**B. 2028 km**

80. Najrasprostranjenija vrsta tla uperipanonskoj i panonskoj Hrvatskoj je:

**crnica**

Koliko županija ima u Republici Hrvatskoj (bez grada Zagreba)?

**20**

82. Prema reljefnim odlikama Republika Hrvatska se dijeli na: **primorsku**,

**gorsku** i **panonska**.

83. Krajnjim točkama teritorija Republike Hrvatske pridružite županiju.

**1. najistočnija točka E**

**2. najjužnija točka C**

**3. najsjevernija točka D**

**4. najzapadnija točka B**

84. Zaokruži točne odgovore !

a) Najduža rijeka koja protječe kroz Hrvatsku je Drava. **N**

b) Vode Hrvatske pripadaju Jadranskom i Crnomorsko slijevu. **T**

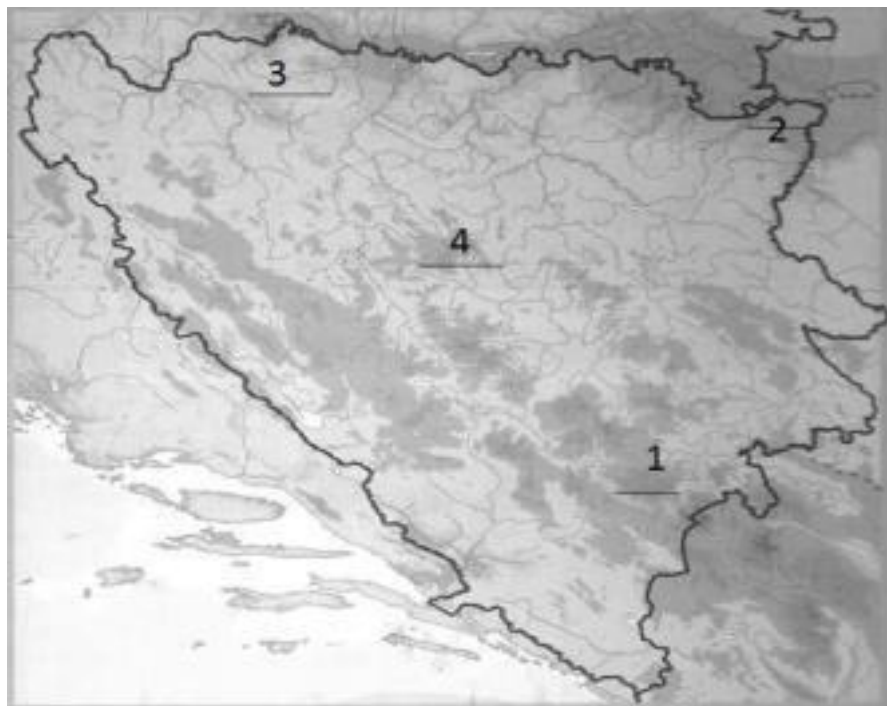
c) Najveće prirodno jezero u Hrvatskoj je Vransko jezero. **T**

d) Jadransko je more najsjeverniji zaljev Sredozemnog mora. **T**

85. Reljefnim oblicima pridružite odgovarajuće primjere

- |                   |                 |
|-------------------|-----------------|
| 1. gora           | <u><u>E</u></u> |
| 2. planina        | <u><u>A</u></u> |
| 3. polje u kršu   | <u><u>C</u></u> |
| 4. zaravan u kršu | <u><u>B</u></u> |

Na prazne linije na karti upiši broj odgovarajućeg naziva planine i nizine:



87. Koje rijeke su označene brojevima?

1. Sana,  
Krivaja,  
Trebišnjica,  
Drina

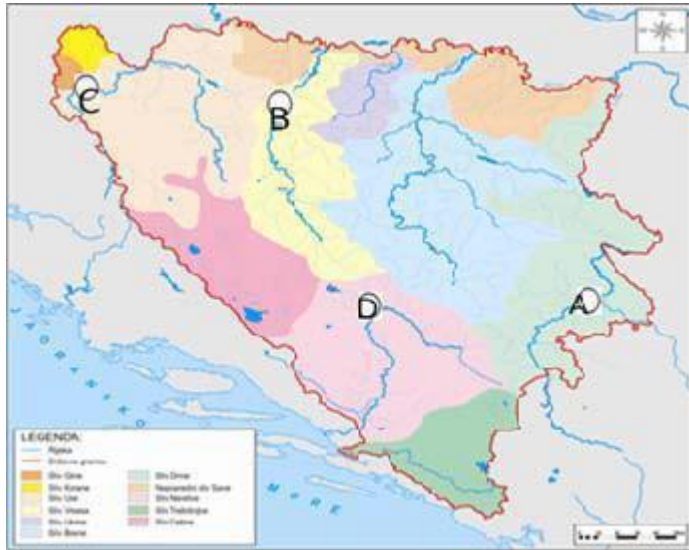
Na crtama pored karte označenim brojevima 1,2,3 i 8 upiši imena kantona/županija u Federaciji Bosne i Hercegovine, a na crtama označenim brojevima 2,4,5 i 7 upiši imena gradova u Republici Srpskoj

Županije u FBiH:

Gradovi u RS:

- |                                     |                            |
|-------------------------------------|----------------------------|
| 1 <u><u>Unsko - sanska</u></u>      | 2 <u><u>Banja Luka</u></u> |
| 3 <u><u>Tuzlanska</u></u>           | 4 <u><u>Bijeljina</u></u>  |
| 6 <u><u>Srednjobosanska</u></u>     | 5 <u><u>Višegrad</u></u>   |
| 8 <u><u>Zapadnohercegovačka</u></u> | 7 <u><u>Trebinje</u></u>   |

U kružice na karti prema smještaju upiši slova za sljedeće HE (hidroelektrane).



90. Uz zadane opise upišite broj s geografske karte prikazane na slici.

a. Najdulja europska rijeka na karti je označena brojem 1.

b. Najprometnija rijeka Europe na karti je označena brojem 7.

91. Na crte pored karte upišite imena pokrajina Ujedinjenoga Kraljevstva koje su na karti označene brojevima od 1 do 4.

Engleska

Wales

Sjeverna Irska

Škotska

Na crte ispod karte upišite imena gradova koji su na karti označeni brojevima 1 i 2 te ime frankofonske kanadske provincije označene okomitim crtama.

Gradovi: 1. Vancouver 2. Toronto

Provincija: Quebec

93. Na priloženoj karti Italije:

A. crtama povežite gradove koji čine talijanski industrijski trokut

B. zaokružite pomorsku luku koja nema vlastito nacionalno

zaleđe C. uz kružić upišite ime najvažnijega središta na Siciliji.

Torino – Milano - Genova

Trieste (Trst)

Palermo

Na crte upišite imena prirodnih cjelina Francuske koje su na karti označene brojevima 1, 2 i 3.

Pirineji

Francuske Alpe i planine Jure

Središnji masiv



95. Na priloženu slijepu kartu upišite:

- A. broj 1 u državu u kojoj je sjedište Europskoga parlamenta
- B. broj 2 u državu u kojoj je potpisan ugovor o osnivanju Europske unije
- C. broj 3 u državu u kojoj je sjedište Europske komisije.

A. Francuska (Strasbourg)  
Nizozemska (Maastricht)  
Belgija (Bruxelles)

96. Upišite ime nacionalnoga parka uz odgovarajući opis i broj s karte.

- a. 1 – Najstariji nacionalni park u svijetu je Yellowstone.
- b. 2 – Kanjon rijeke u Arizoni je Grand Canyon (Veliki kanjon, Colorado).
- c. 3 – Močvarni nacionalni park na Floridi je Everglades.

Upišite brojeve kojima su na karti označeni gradovi Hamburg, München i Berlin.

Hamburg 1

München 6

Berlin 2

Upišite naziv klasične industrijske regije

i ime države u kojoj se danas nalazi:  
država

a. A Donjeckibasen (Donbas)

Ukrajina

b. B Lorraine (Loren)

Francuska

c. C Ruhr

Njemačka

99. Na slijepoj karti Europe:

- a. Upišite broj 1 u državu u kojoj je potpisan ugovor o osnivanju Europske ekonomske zajednice. (Italija)
- b. Upišite broj 2 u državu u kojoj je sjedište Europske središnje banke. (Njemačka)
- c. Upišite broj 3 u državu u kojoj je potpisan ugovor koji je zamjena za neizglasan europski ustav. (Portugal)

a) A -Hadsonov zaljev,

b) B -Meksički zaljev

c) U kvadratiće na karti upišite odgovarajući broj:

- Kordiljeri
- Appalachian gorje (Apalači)



### **3.2.2. Pitanja za usmeni dio ispita**

Sunčev sustav

planete Sunčevog sustava;  
ostala nebeska tijela

Gibanja Zemlje- Rotacija?

posljedice i dokazi  
trajanje

Gibanja Zemlje –Revolucija?

posljedice ,trajanje  
toplinski pojasevi  
smjena godišnjih doba

Orijentacija na stupanjskoj mreži

meridijani – paralele  
geog. dužina i širina

Sastav Zemljine kore (minerali i stijene)

podjela minerala i stijena

Globalna tektonika ploča

teorija postanka

granice tektonskih ploča

Vulkanizam i potresi

vulkani –dijelovi; postvulkanske pojave ; vrste vulkana...  
potresi – podjela ; potresni valovi...

Egzogene sile i procesi(općenito)

Padaline

vrste padalina; podjela; raspodjela

Cirkulacija zraka – vjetar

vrste vjetrova; postanak

Osnovna svojstva mora

osobine morske vode (salinitet, prozirnost, temperatura i boja)

Gibanja mora (dinamika)

kretanja morske vode (valovi; morske struje i morske mijene)

Klimatsko-vegetacijske zone na Zemlji

raspored klime i vegetacije na planeti Zemlji

## Demografska tranzicija

etape demografske tranzicije

## Prirodno kretanje stanovništva

natalitet ; mortalitet ; fertilitet i prirodni prirast

## stanovništva Prostorno kretanje stanovništva

migracije – vrste migracija; uzroci; valovi migracija

## Rasni sastav stanovništva

osnovni tipovi rasa na Zemlji

miješani tipovi rasa na Zemlji

raspored rasne strukture

## Biološki sastav stanovništva

dobna i spolna struktura stanovništva

dobno spolna stabla

## Industrijske revolucije

I; II i III industrijska revolucija

## Funkcije grada

funkcionalna-prostorna struktura grada

## 21. Socijalna topografija

### Razvoj gradova

razvoj gradova do geografskih otkrića

razvoj gradova poslije geografskih otkrića

### Turizam – čimbenici i tipovi

čimbenici razvoja turizma

turističke regije

### Globalizacija svijeta

početak globalizacije

pozitivne i negativne strane globalizacije

budućnost globalizacije

### Multinacionalne kompanije

definicija multinacionalnih kompanija

razlike u načinu rada u prošlosti i danas

pozitivne i negativne strane multinacionalnih kompanija

## Nejednak gospodarski razvoj

- polovi razvoja – polarizacija svijeta (zemlje jezgre, zemlje periferije, zemlje isključenih )
- razvojne i problemske regije

## Italija - prirodna obilježja

- regionalna podjela Italije
- klimatske odlike Italije
- stanovništvo Italije

## Japan

- reljef Japana
- klimatske odlike Japana
- stanovništvo Japana

## Brazil

- regionalna podjela Brazila
- klimatske odlike Brazila
- stanovništvo Brazila

## Latinska Amerika –kontinent kontrasta

- reljefne odlike Latinske Amerike
- klimatske odlike Latinske Amerike
- različitosti u Latinskoj Americi

## EU početak i razvoj

- početak razvoja Europske Unije
- države članice EU i godine priključenja
- tijela EU

## Polja u kršu BiH

- nastanak
- nizovi bila i pola
- ponornice u krškim poljima

## Veličina, granice i oblik BiH

- položaj i veličina BiH
- oblik
- granice sa Hrvatskom, Srbijom i Crnom

## Gorom Reljefna različitost BiH

nizine

brežuljkasto-ravničarski reljef

planinsko-kotlinski reljef

Klimatske odlike BiH (faktori ili čimbenici)

utjecaj klimatskih faktora na klimu BiH

Riječni slivovi u BiH

Crnomorski sliv (Sava, Una, Bosna, Vrbas, Drina i njihove pritoke)

Jadranski sliv (Neretva i njene pritoke)

Osnovne značajke gospodarstva BiH prirodno-geografski

uvjeti za razvoj gospodarstva BiH društveno-

geografski uvjeti za razvoj gospodarstva BiH

Turizam BiH

turističke regije BiH

faktori za razvoj turizma

Položaj, veličina i granice Hrvatske

položaj i veličina Hrvatske

granice sa Mađarskom, Srbijom, BiH i Crnom

Gorom Zaštićena područja Hrvatske

Nacionalni parkovi

Naselja Hrvatske

oblici naseljenosti

ruralni prostori

gradska naselja

# PRIMJER TESTA

## TEST EKSTERNE MATURE DRUŠTVENOG IZBORNOG PODRUČJA

Ime i prezime učenika \_\_\_\_\_

Nadnevak: \_\_\_\_\_

### UPUTE

Pozorno slijedite sve upute.

Ne okrećite stranice i ne rješavajte test dok to ne odobri ispitna komisija.

Napišite čitko ime i prezime na određeno mjesto.

Ispit traje 90 minuta bez prekida.

Redoslijed rješavanja birajte sami.

Ispred svake skupine zadataka je uputa za njihovo rješenje.

Pišite jasno i čitko! Nečitko odgovori bodovat će se s nula ( 0 ) bodova.

Tijekom pisanje ispita dopušteno je rabiti kemijsku olovku plave ili crne boje.

Kada riješite test, provjerite svoje odgovore.

*Želimo vam puno uspjeha.*

## TEST IZ POVIJESTI

	<b>bodovi</b>
1. Koga se u Europi smatra ocem povijesti:	1
a) Herodot	
b) Tacit	
c) Tukidid	
2. Godina koja predstavlja početak rimske ere je _____	1
Koji znanstvenici su dešifrirali klinovo pismo:	
Grotefend i Rawlinson	
Champollion i Rawlinson	
c) Grotefend i Champollion	1
Kako se zvao arheolog koji se bavio istraživanjima na Kreti:	
Arthur Evans	
Heinrich Schliemann	
c) Champollio	1
Koliko je istovremeno bilo kraljeva u spartanskoj državi?	
jedan	
nijedan	
c) dva	1
6. Godine 509. pr. Krista na vlast je došao Klisten koji je spriječio obnovu tiranije uvođenjem a) timokracije	
b) ostrakona	1
7. Sukob između Sparte i Atene 431.-404. pr. Krista poznat je pod imenom _____	1
U raspravi oko načina organizacije obrane Atene od Perzije imamo sljedeću činjenicu	
za gradnju mornarice Temistoklo, za povećanje broja hoplitaAristid	
za gradnju mornarice Miltijad, za povećanje broja hoplitaArtaferno	
c) za gradnju mornarice Aristid, za povećanje broja hoplitaTemistoklo	1
9. Pravni odnosi u starom Rimu zacrtani su u:	
a) Zakoniku 12 ploča	
b) Zakoniku 10 ploča	1
10. Godine 327.pr. Kr. Aleksandar Veliki je krenuo na _____	1
Izabrani narodni predstavnici koji su trebali štititi političke i gospodarske interese plebejaca bili su	
trijumviri	
pretori	
c) tribuni	1
12. Dioklecijan je uspostavio novo političko poimanje vladanja _____	1

13. Najpoznatiji vladar Franačke zvao se \_\_\_\_\_ 1

14. U feudalizmu seljaci se dijele na \_\_\_\_\_ i \_\_\_\_\_ (0.5 +0.5)

15. Papa Ivan X. godine 925 kraljevsku titulu upotrebljava za hrvatskog kralja \_\_\_\_\_ 1

16. Posljednji hrvatski kralj bio je \_\_\_\_\_ čijom pogibijom Hrvatska ulazi u \_\_\_\_\_ uniju sa Ugarskom (0.5 +0.5)

17. Nakon križarskih ratova s istoka u Europu, putem trgovinske razmjene dolazi ( T ili N)

- |  |   |   |     |
|--|---|---|-----|
| a) kajsija, breskva i limun              | T | N | 0.5 |
| b) barut, kompas i dalekozor             | T | N | 0.5 |
| c) mirodije, luksuzni predmeti i tkanine | T | N | 0.5 |

18. Prvi pisani zakon u Engleskoj donesen je \_\_\_\_\_ g. , a poznat je pod imenom \_\_\_\_\_ (0.5 +0.5)

Pad Hercegovine pod osmanlijsku vlast dogodio se godine :

- 1482.g.  
b) 1463.g.  
c) 1521.g.1

20. „Deklaraciju o pravima“ iz 1689.g. potpisao je \_\_\_\_\_ engleski kralj \_\_\_\_\_ 1

Bosanskohercegovačko stanovništvo se u osmanlijskom razdoblju dijelilo staleški na \_\_\_\_\_ i \_\_\_\_\_ (0.5 +0.5)

*Duh zakona* napisao je \_\_\_\_\_ (ime i prezime) i u njemu predlaže podjelu vlasti na \_\_\_\_\_, \_\_\_\_\_ (0.5 + 0.5 + 0.5 + 0.5)

23. Strelicama poveži pojmove (0,5 + 0.5 )

- |           |                  |
|-----------|------------------|
| a) Jug    | 1) Konfederacija |
| b) Sjever | 2) Unija         |

24. Sukobljene strane u Američkom ratu za neovisnost su: (zaokruži točan odgovor

- )1 Velika Britanija i sjevernoameričke kolonije  
Francuska i sjevernoameričke kolonije

Prvi predsjednik SAD bio je \_\_\_\_\_ (puno ime i prezime) \_\_\_\_\_ 1

26. Bečki kongres službeno je trajao od \_\_\_\_\_ god. do \_\_\_\_\_ g. (sa datumima) \_\_\_\_\_ (0.5 + 0.5)

27. Bosanskohercegovački ustanak počeo je potkraj lipnja \_\_\_\_\_ godine u selu \_\_\_\_\_ blizu mjesta \_\_\_\_\_, a završen je \_\_\_\_\_ god. (0,5+0,5+0,5+0,5)



Prema odredbama Hrvatsko-ugarske nagodbe, Hrvatska je dobila potpunu autonomiju u sljedećim poslovima

- |          |     |
|----------|-----|
| 1. _____ | 0,5 |
| 2. _____ | 0,5 |
| 3. _____ | 0,5 |
| 4. _____ | 0,5 |

U vrijeme Hrvatskog narodnog preporoda 1841.godine osnivaju se dvije političke stranke

2. \_\_\_\_\_ (0.5 + 0.5 )

Zaokruži naziv kongresa kojim je završena Velika istočna kriza

Bečki kongres

b) Berlinski kongres

1

31 .Zaokruži točan odgovor :

- |  |   |   |     |
|--|---|---|-----|
| a.) Prvi balkanski rat je započeo 1911.                                  | T | N | 0.5 |
| b.) Aneksija je nasilno pripajanje određene države u sustav druge države | T | N | 0.5 |

32. Strjelicom poveži važne povijesne događaje sa odgovarajućom godinom :

- |                                     |           |     |
|-------------------------------------|-----------|-----|
| a.) Aneksija BiH od strane A-U      | 1.) 1915. | 0.5 |
| b.) Londonski ugovor                | 2.) 1945. | 0.5 |
| c.) Okončanje Drugog svjetskog rata | 3.) 1914. | 0.5 |
| d.) Početak Prvog svjetskog rata    | 4.) 1908. | 0.5 |

33. Pored navedenih povijesnih događaja upiši godine :

- |  |   |
|--|---|
| a.) Šestosiječanjska diktatura kralja Aleksandra Karađorđevića _____ | 1 |
| b.) Uspostava Banovine Hrvatske _____                                | 1 |

34. Kronološki poredaj događaje (brojevima od 1.do 4.):

- |  |     |
|--|-----|
| a.) Formiranje Kraljevine Srba, Hrvata i Slovenaca _____ | 0.5 |
| b.) Početak Drugog balkanskog rata _____                 | 0.5 |
| c.) Formiranje Država Slovenaca, Hrvata i Srba _____     | 0.5 |
| d.) Početak Prvog svjetskog rata _____                   | 0.5 |

35. Zaokruži političare koji su bili predsjednici i zamjenici u Narodnom vijeću :

- |                   |                         |                   |
|-------------------|-------------------------|-------------------|
| a.) Ante Trumbić  | c.) Svetozar Pribičević | (0.5 + 0.5 + 0.5) |
| b.) Anton Korošec | d.) Ante Pavelić        |                   |

36. Prema Vidovdanskom ustavu Kraljevina SHS je uređena kao \_\_\_\_\_  
\_\_\_\_\_ 1

Hrvatski političar na sjednici Narodnog vijeća SHS (u studenom 1918.) održao je poznati govor : „*Gospodo još nije prekasno. Ne srljajte kao guske u maglu !*“ Govor je održao

\_\_\_\_\_ (ime i prezime ) 1

Pored pojmova upiši njihovo značenje :

- |                            |   |
|----------------------------|---|
| a.) regent _____           | 1 |
| b.) oktroirani ustav _____ | 1 |

39. Prekriži političara koji ne pripada fašističkoj skupini:

a) Adolf Hitler b) Benito Mussolini c) Winston Churchill d) Vidkun Quisling 1

Kraljevina Jugoslavija je naziv za Kraljevinu Srba, Hrvata i Slovenaca od \_\_\_\_\_ g. 1

Vođa nacističkog pokreta u Njemačkoj je \_\_\_\_\_, koji 0.5  
postaje njemački kancelar \_\_\_\_\_ g. 0.5

Vojno-politički blokovi nastali nakon Drugog svjetskog rata (zaokruži  
ispravne odgovore):

a.) Sjeverno-atlantski pakt b.) Antanta c.) Trojni savez d.) Varšavski pakt  
(0.5+0.5)

Ime i prezime učenika: \_\_\_\_\_

Ukupan broj bodova: \_\_\_\_\_ 50 \_\_\_\_\_

Ostvareni broj bodova: \_\_\_\_\_

Ocjena \_\_\_\_\_

Popis komisije:

1. Predsjednik komisije:

Ime i prezime: \_\_\_\_\_

I. član komisije:

Ime i prezime: \_\_\_\_\_

II. član komisije:

Ime i prezime: \_\_\_\_\_

## TEST IZ GEOGRAFIJE

**Zaokruži točan odgovor !**

**Granica između Zemljinoga plašta i kore je ploha:**

- A. Gutenbergova diskontinuitet
- B. Mohorovičićeva diskontinuitet
- C. Krambergerova diskontinuitet
- D. Wegenerova diskontinuitet

**1 bod / \_\_\_\_**

**Zaokruži točne odgovore !**

**Koje su među navedenima tople morske struje?**

- Bengvelska
- Humboldtova
- Kuro Shio
- Mozambička
- Zapadnoaustralska

**bod (2 x 0,50) / \_\_\_\_**

**Zaokruži točan odgovor !**

**Broj živorođenih na tisuću stanovnika je:**

- natalitet
- stopa nataliteta
- rodnost
- stopa prirodnoga priraštaja

**1 bod / \_\_\_\_**

**Zaokruži točan odgovor !**

**4. Koje su migracije, prema uzroku, bile najintenzivnije u posljednja dva stoljeća?**

- etničke
- vjerske
- kulturne
- gospodarske

**1 bod / \_\_\_\_**

**Zaokruži točan odgovor !**

**Koja institucija donosi odluku o statusu kandidata i prijemu države-kandidatkinje u punopravno članstvo Europske unije?**

- A. Europski parlament
- B. Europsko vijeće
- C. Vijeće Europe
- D. Vijeće Europske unije

**1 bod / \_\_\_\_**

**Zaokruži točan odgovor !**

**Koje se od navedenih multinacionalnih kompanija bave proizvodnjom goriva i maziva?**

- ExxonMobil
- Royal DutchShell
- IBM
- Toyota motors
- Citigroup

**1 bod (2 x 0,50) / \_\_\_\_**

**Zaokruži točne odgovore !**

**Najveći broj sunčanih sati u Bosni i Hercegovini ima grad:**

- A. Ljubinje
- Trebinje
- Nevesinje
- Bileća

**1 bod / \_\_\_\_**

**Zaokruži točne odgovore !**

**Najnižu količinu padalina u Bosni i Hercegovini ima:**

- A. Središnja Bosna
- B. Bosanska krajina
- C. Niska Hercegovina
- D. Semberija

**1 bod / \_\_\_\_**

**Zaokruži točne odgovore !**

**Ukupna dužina granica Republike Hrvatske iznosi:**

- A. 1028 km
- B. 2028 km
- C. 3028 km
- D. 4028 km

**1 bod / \_\_\_\_**

**Zadatak riješi računajući i dopunjavanjem sljedeće rečenice!**

**10. Izračunajte srednju dnevnu temperaturu zraka ako je izmjerena temperatura u 7 sati 8 °C, u 14 sati 16 °C, a u 21 sat 10 °C.**

Srednja dnevna temperatura iznosi \_\_\_\_\_ °C.

**1 bod / \_\_\_\_**

**Zadatak riješi dopunjavanjem sljedeće rečenice!**

**11. S obzirom na funkciju naselja, uz tercijarne i kvartarne djelatnosti, gradska naselja karakteriziraju \_\_\_\_\_ djelatnosti, a seoska prvenstveno \_\_\_\_\_ djelatnosti.**

**1 bod / \_\_\_\_**

**Zadatak riješi dopunjavanjem sljedeće rečenice!**

12. Ekspanzivna populacijska politika ima kao cilj \_\_\_\_\_ stanovništva ili održanje na postojećoj razini. Provode je gospodarski razvijene zemlje svijeta (npr. Švedska).

1 bod / \_\_\_\_

**Zadatak riješi dopunjavanjem sljedeće rečenice!**

13. Dvije otočne sredozemne države članice Europske unije su \_\_\_\_\_ i \_\_\_\_\_.

1 bod / \_\_\_\_

**Zadatak riješi dopunjavanjem sljedeće rečenice!**

**Kroz zadatak dopunjavanja pokaži koliko znaš o geografskom položaju i podrijetloimena Bosne i Hercegovine**

Bosna i Hercegovina se prvi put spominje u \_\_\_\_\_ stoljeću.

Bosna je dobila ime po ilirskom obliku riječi *bassinus* što znači \_\_\_\_\_.

Bosna i Hercegovina ima površinu od \_\_\_\_\_ km<sup>2</sup>.

Bosna i Hercegovina je smještena u \_\_\_\_\_ Europi.

2 boda (4 X 0,50) / \_\_\_\_

**Dopuni rečenice!**

**Gdje se nalaze ušća bosanskohercegovačkih rijeka u Savu?**

Ušće Drine u Savu je kod \_\_\_\_\_.

Ušće Bosne u Savu je kod \_\_\_\_\_.

Ušće Une u Savu je kod \_\_\_\_\_.

Ušće Vrbasa u Savu je kod \_\_\_\_\_.

2 boda (4 X 0,50) / \_\_\_\_

**Dopuni rečenice:**

Najvažniji centar vjerskog turizma u BiH je \_\_\_\_\_.

Jedina riječna luka BiH na rijeci Savi je \_\_\_\_\_.

Zračna luka Butmir nalazi se u \_\_\_\_\_.

U Hercegovini, u kraškom polju, smještena je termoelektrana \_\_\_\_\_.

2 boda (4 X 0,50) / \_\_\_\_

**Zadatak riješi dopunjavanjem sljedeće rečenice!**

**Za točnu tvrdnju zaokruži slovo T (točno), a za netočnu tvrdnju zaokruži N (netočno).**

a) Dinarske planine se u Bosni i Hercegovini pružaju u smjeru sjeverozapad-jugoistok. T N

b) Najviša planina u Bosni i Hercegovini je Bjelašnica. T N

c) Planine više od 2000 m su: Volujak, Čvrstica, Treskavica, Bjelašnica, Zelengora. T N

d) Planine srednje visine u našoj zemlji su: Grmeč, Manjača, Čemernica, Vlašić, Igman. T N

2 boda (4 X 0,50) / \_\_\_\_

**Zaokruži točan odgovor!**

Kalendar koji je u službenoj upotrebi od kraja 19. stoljeća zove se *julijanski* kalendar.

T N

1 bod / \_\_\_\_

**Točnu tvrdnju zaokruži slovo T (točno), a za netočnu tvrdnju zaokruži N (netočno).**

a) Po popisu stanovništva iz 2013. godine, Bosna i Hercegovina je imala 3.531.159 stanovnika.

T N

Od 1876. godine pa do 2013. BiH je imala najveću gustoću prema popisu iz 1991. godine i iznosila je 87 stan./ km<sup>2</sup>.

T N

c) Prvi popis stanovništva u BiH obavljen je 1878 godine.

T N

d) Popis stanovništva izvršen je 1941. godine.

T N

2 boda (4 X 0,50) / \_\_\_\_

**20. Zaokruži točne odgovore !**

a) Najduža rijeka koja protječe kroz Hrvatsku je Drava.

T N

b) Vode Hrvatske pripadaju Jadranskom i Crnomorsko slijevu.

T N

c) Najveće prirodno jezero u Hrvatskoj je Vransko jezero.

T N

d) Jadransko je more najsjeverniji zaljev Sredozemnog mora.

T N

2 boda (4 X 0,50) / \_\_\_\_

**Upiši odgovarajuće slovo na praznu liniju ispred geografskog pojma.**

**Egzogenim procesima pridružite tipove reljefa za koje su karakteristični.**

1. abrazija \_\_\_\_\_

A. glacijalni reljef

2. egzaracija \_\_\_\_\_

B. krški reljef

3. fluvijalna erozija \_\_\_\_\_

C. obalni reljef

4. korozija \_\_\_\_\_

D. pustinjski reljef

E. riječni reljef

2 boda (4 X 0,50) / \_\_\_\_

**Upiši odgovarajuće slovo na praznu liniju ispred geografskog pojma.**

**Načinima postanka pridružite vrste stijena.**

1. hlađenje magme \_\_\_\_\_

A. mehaničke sedimentne stijene

2. lučenje iz zasićenih otopina \_\_\_\_\_

B. dubinske magmatske stijene

3. taloženje ostataka organizama \_\_\_\_\_

C. kemijske sedimentne stijene

4. promjena utjecajem tlaka i temperature \_\_\_\_\_

D. metamorfne stijene

E. organogene sedimentne stijene

2 boda (4 X 0,50) / \_\_\_\_

**Upiši odgovarajuće slovo na praznu liniju ispred geografskog pojma.**

**Tipovima klime pridružite poljoprivredne kulture koje su za njih karakteristične.**

- |                                |       |               |
|--------------------------------|-------|---------------|
| 1. savanska klima              | _____ | A. datulja    |
| 2. sredozemna klima            | _____ | B. ječam      |
| 3. suha pustinska klima        | _____ | C. kaučukovac |
| 4. umjereno topla vlažna klima | _____ | D. kava       |
|                                |       | E. maslina    |

**2 boda (4 X 0,50) / \_\_\_\_**

**Upiši odgovarajuće slovo na praznu liniju ispred geografskog pojma.**

**Rudama pridružite odgovarajuće skupine.**

- |             |       |                              |
|-------------|-------|------------------------------|
| 1. zlato    | _____ | A. rude obojene metalurgije  |
| 2. titan    | _____ | B. rude plemenitih metala    |
| 3. boksit   | _____ | C. rude rijetkih metala      |
| 4. magnetit | _____ | D. rude crne metalurgije     |
|             |       | E. rude organskoga porijekla |

**2 boda (4 X 0,50) / \_\_\_\_**

**Upiši odgovarajuće slovo na praznu liniju ispred geografskog pojma.**

**Vrste prostornog kretanja stanovništva pridružite odgovarajući primjer**

- |                         |       |  |
|-------------------------|-------|--|
| 1. konačna migracija    | _____ |  |
| 2. privremena migracija | _____ |  |
| 3. redovita cirkulacija | _____ |  |
| 4. sezonska cirkulacija | _____ |  |
- A. dnevno putovanje radnika na radno mjesto  
odlazak na godišnji odmor  
odlazak na liječenje u Krapinske Toplice  
preseljavanje stanovništva Bosne i Hercegovine u Njemačku  
preseljavanje stanovništva Republike Hrvatske u Gradišće

**2 boda (4 X 0,50) / \_\_\_\_**

**Upiši odgovarajuće slovo na praznu liniju ispred geografskog pojma.**

**Geografskim regijama SAD-a pridružite gospodarska središta.**

- |                  |       |              |
|------------------|-------|--------------|
| 1. Srednji zapad | _____ | A. Anchorage |
| 2. Zapad         | _____ | B. Boston    |
| 3. Jug           | _____ | C. Chicago   |
| 4. Sjeveroistok  | _____ | D. Denver    |
|                  |       | E. Atlanta   |

**2 boda (4 X 0,50) / \_\_\_\_**

**Upiši odgovarajuće slovo na praznu liniju ispred geografskog pojma  
Industrijskoj regiji pridruži baze zahvaljujući kojima je nastala:**

1. Tuzlanska industrijska regija \_\_\_\_\_
2. Banjalučka industrijska regija \_\_\_\_\_
3. Sarajevska industrijska regija \_\_\_\_\_
4. Mostarska industrijska regija \_\_\_\_\_

- A. ugljen, željezo i poljoprivredna okolica  
B. boksit i hidroenergija  
C. ugljen i sol  
D. geografski položaj, kvalificirana radna snaga i bogata rudonosna okolica

**2 boda (4 X 0,50) / \_\_\_\_**

**Upiši odgovarajuće slovo na praznu liniju ispred geografskog pojma !  
Reljefnim oblicima pridružite odgovarajuće primjere**

1. gora \_\_\_\_\_
2. planina \_\_\_\_\_
3. polje u kršu \_\_\_\_\_
4. zaravan u kršu \_\_\_\_\_

- A. Biokovo  
B. Bukovica  
C. Gacko polje  
D. Lonjsko polje  
E. Medvednica

**2 boda (4 X 0,50) / \_\_\_\_**

**Pažljivo pogledajte kartu sa riječnom mrežom Bosne i  
Hercegovine. Koje rijeke su označene brojevima?**

- 1 \_\_\_\_\_
- 2 \_\_\_\_\_
- 3 \_\_\_\_\_
- 4 \_\_\_\_\_



**2 boda (4 X 0,50) / \_\_\_\_**



Sljedeće pitanje riješi uz pomoć priložene karte !

Na crte pored karte upišite imena pokrajina Ujedinjenoga Kraljevstva koje su na karti označene brojevima od 1 do 4.



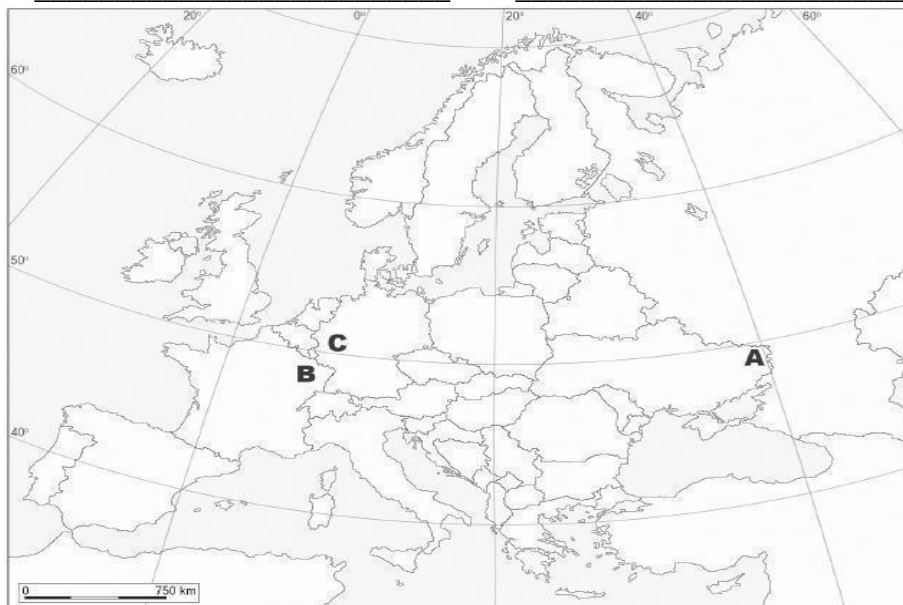
1. \_\_\_\_\_
2. \_\_\_\_\_
3. \_\_\_\_\_
4. \_\_\_\_\_

2 boda (4 X 0,50) / \_\_\_\_

Sljedeće pitanje riješi uz pomoć priložene karte

Upišite naziv klasične industrijske regije i ime države u kojoj se danas nalazi

- |   |       |       |
|---|-------|-------|
| A | _____ | _____ |
| B | _____ | _____ |
| C | _____ | _____ |



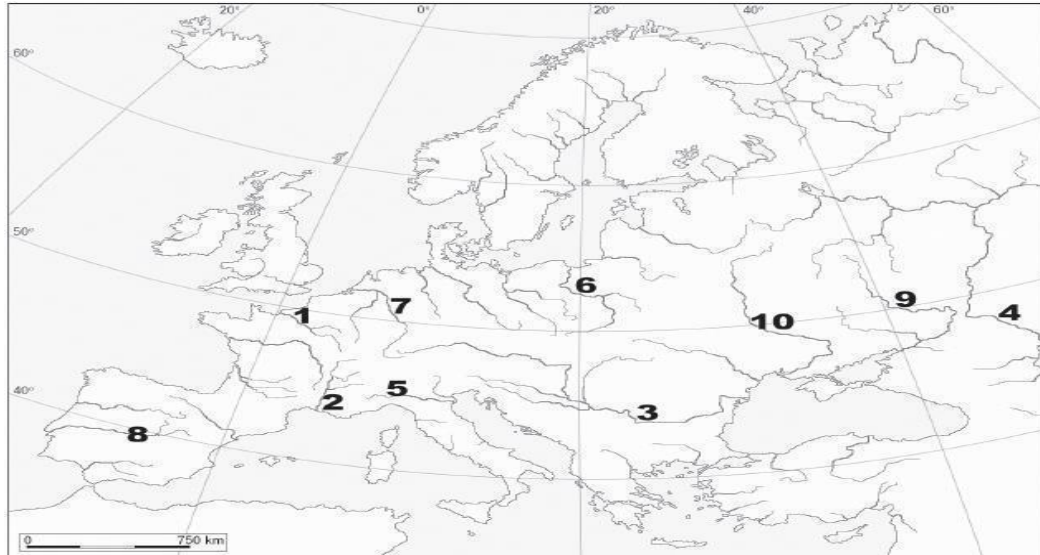
3 boda (6 X 0,50) / \_\_\_\_

**Sljedeće pitanje riješi uz pomoć priložene karte Europe**

**Uz zadane opise upišite broj s geografske karte prikazane na slici:**

a. Najdulja europska rijeka na karti je označena brojem \_\_\_\_\_.

b. Najprometnija rijeka Europe na karti je označena brojem \_\_\_\_\_.



**1 bod (2 x 0,50) / \_\_\_\_**

**Ime i prezime** \_\_\_\_\_

Ukupan broj bodova: 50

Ostvaren broj bodova : \_\_\_\_\_

Ocjena: \_\_\_\_\_

Popis komisije:

1. Predsjednik komisije:

Ime i prezime: \_\_\_\_\_

I. član komisije:

Ime i prezime: \_\_\_\_\_

II. član komisije:

Ime i prezime: \_\_\_\_\_

# LITERATURA

## Povijesti

### prvi razred:

*Davorka Bubanj – Valentić, Tihomir Zovko*, POVIJEST 1, Školska naklada, Mostar, 2001.

*D. Mijatović* , POVIJEST 1, Alfa, Zagreb

### drugi razred:

*Franko Mirošević, Franjo Šanjek, Anđelko Mijatović, Andrija Nikić* , POVIJEST 2 , Školska naklada, Mostar, 2001.

*Birin , T. Šarlija* , POVIJEST 2 , Alfa ,

### Zagreb treći razred:

*Stipe Jurković, Trpimir Macan, Anđelko Mijatović, Franko Mirošević* , POVIJEST 3 , Školska naklada, Mostar , 2005.

*S. Bekavac , R. Skenderović* , POVIJEST 3 , Alfa , Zagreb

### četvrti razred:

*Hrvoje Matković, Franko Mirošević, Božo Goluža, Ivica Šarac*, POVIJEST 4, Školska naklada, Mostar , 2006.

*M. Akmadža, M. Jareb* ,POVIJEST 4, Alfa, Zagreb

## Geografija

### prvi razred:

*Feletar, D., Perica, D., Vuk, R.*: GEOGRAFIJA 1, Meridijani, Samobor, 2003.

*Glamuzina.N., Vrbatović.A.*:GEOGRAFIJA 1, Alfa, Zagreb, 2008.

### drugi razred:

*Feletar, D., Perica, D., Vuk, R.*: GEOGRAFIJA 2, Meridijani, Samobor, 2003.

*Glamuzina.N., Vrbatović.A.*: GEOGRAFIJA 2, Alfa, Zagreb, 2008.

### treći razred:

*Feletar, D., Stiperski, Z.*:GEOGRAFIJA 3, Meridijani, Samobor, 2007.

*Vukić.M., Migles. D.*: GEOGRAFIJA3,,Alfa, Zagreb, 2008.

### četvrti razred:

*Musa, S.*:GEOGRAFIJA 4, Sarajevo Publishing, Sarajevo, 2007.

*Feletar, D., Vuk, R.*: GEOGRAFIJA 4, Meridijani, Samobor, 2003.